


CIDADE DE LAJEADO
INSTRUÇÕES GERAIS

- 1 - Este caderno de prova é constituído por 40 (quarenta) questões objetivas.
- 2 - A prova terá duração máxima de 04 (quatro) horas.
- 3 - Para cada questão, são apresentadas 04 (quatro) alternativas (a – b – c – d).
APENAS UMA delas responde de maneira correta ao enunciado.
- 4 - Após conferir os dados, contidos no campo Identificação do Candidato no Cartão de Resposta, assine no espaço indicado.
- 5 - Marque, com caneta esferográfica azul ou preta de ponta grossa, conforme exemplo abaixo, no Cartão de Resposta – único documento válido para correção eletrônica.


- 6 - Em hipótese alguma, haverá substituição do Cartão de Resposta.
- 7 - Não deixe nenhuma questão sem resposta.
- 8 - O preenchimento do Cartão de Resposta deverá ser feito dentro do tempo previsto para esta prova, ou seja, 04 (quatro) horas.
- 9 - Serão anuladas as questões que tiverem mais de uma alternativa marcada, emendas e/ou rasuras.
- 10 - O candidato só poderá retirar-se da sala de prova após transcorrida 01 (uma) hora do seu início.

BOA PROVA!

CONHECIMENTOS ESPECÍFICOS

1. "Em 1755, o filósofo alemão Immanuel Kant sugeriu que a origem do sistema solar poderia ser traçada pela rotação de uma nuvem de gás e poeira fina. Descobertas feitas há poucas décadas levaram os astrônomos de volta a essa antiga idéia, agora [...] descobriram que o espaço exterior além do sistema solar não está vazio como anteriormente era pensado".

(PRESS, F.; SIEVER, R.; GROTZINGER, J.; JORDAN, T. **Para Entender a Terra**. Porto Alegre: Bookman, 2006. p.28)

A que o texto faz referência?

- a) Ao Paradigma Teísta.
- b) À Teoria Catastrófica.
- c) À Hipótese da Nebulosa.
- d) Ao Modelo Heliocêntrico.

2. "[...] representam o extremo ocidental do mundo árabe, que se estende desde o Oriente Médio. Daí a região ser conhecida como Magreb, palavra árabe que significa ponte [...]. De clima mediterrâneo na faixa litorânea, onde se concentra a maioria da população, a região possui grande extensão de clima desértico, onde se encontram ilhas de umidade – os oásis".

(ALMEIDA, L.M.A.; RIGOLIN, T.B. **Fronteiras da Globalização**: O espaço geográfico globalizado. São Paulo: Ática, 2010. p 102)

O texto refere-se ao Magreb, região africana constituída por quais países?

- a) Mali, Níger e Senegal.
- b) Quênia, Somália e Sudão.
- c) Camarões, Gana e Gâmbia.
- d) Argélia, Marrocos e Tunísia.

3. Um ciclista partiu de uma cidade **X** com destino a uma cidade **Y** situada no mesmo fuso horário da primeira. No momento da partida, a hora local em **X** marcava 20h48min do dia 31/12/16. Considerando-se que o percurso foi realizado em 3h13min.

Em qual hora e data ocorreu a chegada do ciclista na cidade **Y** respectivamente:

- a) 00h01min do dia 31/12/16.
- b) 00h01min do dia 30/12/16.
- c) 00h01min do dia 01/01/17.
- d) 00h01min do dia 02/01/17.

4. "É a forma de organizar a produção em grandes fazendas de área contínua, praticando a monocultura, ou seja, especializando-se num único produto, destinando-o à exportação, seja ele a cana-de-açúcar, o cacau, o algodão, gado etc., utilizando mão-de-obra escrava".

(STÉDILE, João Pedro. **A Questão Agrária no Brasil**: O debate tradicional: 1500-1960, São Paulo: Expressão Popular, 2005, p.21)

O texto acima trata de qual sistema de produção agrícola praticado durante o Brasil-colônia?

- a) Plantation.
- b) Jardinagem.
- c) Subsistência.
- d) Agronegócio.

5. "[...] se instala em meio úmido em virtude de condições especiais de sua base rochosa, relevo e hidrografia, ou da ação antrópica, através do uso predatório de recursos. Um dos casos mais conhecidos é o da região sudoeste do Rio Grande do Sul (municípios de Quaraí, Alegrete e Cacequi), onde a prática agrícola em regiões de arenito Botucatu acabou expondo a rocha matriz, originando extensos areais e campos de dunas, sem que as médias pluviométricas sofressem alteração significativa".

(CONTI, José Bueno. **Clima e Meio Ambiente**. São Paulo: Atual, 1998, p.75)

O processo de transformação ambiental descrito no texto é denominado

- a) lixiviação.
- b) arenização.
- c) salinização.
- d) desertificação.

6. "O Efeito Coriolis descreve essa tendência de objetos móveis irem à direita no Hemisfério Norte e à esquerda, no Hemisfério Sul. Os ventos que se aproximam do equador, oriundos das latitudes médias, sofrem desvio para o oeste".

(BROWN, James; LOMOLINO, Mark. **Biogeografia**. Ribeirão Preto (SP): FUNPEC, 2006, p.43)

O texto acima faz referência a quais tipos de ventos?

- a) Locais.
- b) Alísios.
- c) Polares.
- d) Contra-alísios.

7. "Quando a Lua, a Terra e o Sol estão alinhados, as forças gravitacionais do Sol e da Lua são reforçadas. Isso produz as _____, que são as mais altas; elas têm o seu nome derivado a partir da altura, não da estação, e aparecem a cada duas semanas, durante a Lua cheia e a nova".

(PRESS, F.; SIEVER, R.; GROTZINGER, J.; JORDAN, T. **Para Entender a Terra**. Porto Alegre: Bookman, 2006. p.437)

A partir do texto, qual é a expressão que preenche corretamente a lacuna acima?

- a) marés de sizígia
- b) marés de latitude
- c) marés de ressaca
- d) marés de vazante

8. "Podemos definir rio como uma corrente de água permanente, que leva o excesso das águas continentais superficiais até os oceanos, mares e lagos [...] os rios estão organizados hierarquicamente, formando uma rede hidrográfica: rio principal, afluentes e subafluentes".

(ALMEIDA, L.M.A.; RIGOLIN, T.B. **Fronteiras da Globalização**: O espaço brasileiro. São Paulo: Ática, 2010. p 45)

O ponto mais fundo do vale de um rio, é denominado

- a) leito.
- b) curso.
- c) estuário.
- d) talvegue.

9. "No século XVIII, o médico e geólogo escocês James Hutton antecipou um princípio histórico da Geologia que pode ser assim resumido: "O presente é a chave do passado". O conceito de Hutton [...] considera que os processos geológicos que vemos atuantes hoje também funcionaram de modo semelhante ao longo do tempo geológico".

(PRESS, F.; SIEVER, R.; GROTZINGER, J.; JORDAN, T. **Para Entender a Terra**. Porto Alegre: Bookman, 2006. p.27)

O texto refere-se ao que ficou conhecido por princípio

- a) da isostasia.
- b) do flogismo.
- c) da sincronicidade.
- d) do uniformitarismo.

10. "[...] hoje todos os espaços do planeta são espaços da produção e das trocas globalizadas, incluídos os espaços agrícolas, os quais passam por inúmeras metamorfoses, uma vez que são extremamente suscetíveis de aceitação do capital tecnológico".

(ELIAS, D. **Globalização e Agricultura**. São Paulo: Edusp, 2003, p.63)

O emprego cada vez mais crescente de capital e maquinários no setor da produção agrícola caracteriza a agricultura

- a) intensiva.
- b) extensiva.
- c) itinerante.
- d) sustentável.

11. A respeito dos tipos de indústria, são apresentados os seguintes conceitos:

- I. A indústria de base é caracterizada pelo trabalho que realiza sobre a matéria-prima, ou seja, a matéria-prima é processada para o uso em outra indústria.
- II. A indústria de bens de capital transforma a matéria-prima já beneficiada em bens intermediários, e estes serão fundamentais para a indústria de bens de consumo.
- III. A indústria de bens de consumo produz os bens que serão disponibilizados ao mercado consumidor. Atualmente, está subdividida em: bens de consumo duráveis, semiduráveis e não duráveis.

Os conceitos apresentados, referem-se, respectivamente, aos tipos de indústria denominadas

- a) cimento, ferramentas e vidro.
- b) siderurgia, vestuário e celulose.
- c) medicamentos, metalurgia e máquinas.
- d) mineração, equipamentos e eletrodomésticos.

12. "Se o homem abandonasse todos os ecossistemas cultivados do planeta, estes retornariam rapidamente a um estado de natureza próximo daquele no qual ele se encontrava há 10 mil anos. As plantas cultivadas e os animais domésticos seriam encobertos por uma vegetação e por uma fauna selvagem infinitamente mais poderosa que hoje."

(MAZOYER, M. ROUDART, L. **História das Agriculturas no Mundo**: do Neolítico à crise contemporânea. São Paulo: UNESP, 2010. p.41)

A qual modelo de sustentabilidade o texto faz referência?

- a) Empirista.
- b) Pragmatista.
- c) Preservacionista.
- d) Conservacionista.

13. "Os objetos que interessam à Geografia não são apenas objetos móveis, mas também objetos imóveis, tal uma cidade, uma barragem, uma estrada, uma rodagem, um porto, uma floresta, uma plantação, um lago, uma montanha. [...] Para os geógrafos, os objetos são tudo o que existe na superfície da Terra, toda herança da história natural e todo resultado da ação humana que se objetivou".

(SANTOS, Milton. **A Natureza do Espaço**: Técnica e tempo, razão e emoção. São Paulo: USP, 2009. p.72)

Santos nos aponta que a Geografia Física e Humana se encontram em um ponto em comum, que é o objeto de estudo da Geografia, caracterizado como:

- a) ambiente natural.
- b) espaço geográfico.
- c) território de poder.
- d) sociedade de redes.

14. "[...] são estruturas territoriais especiais, formadas pelas principais cidades do país e pelas aglomerações a elas conurbadas. Tais estruturas configuram unidades de planejamento integrado do desenvolvimento urbano".

(TERRA, L.; ARAÚJO, R.; GUIMARÃES, R.B. **Conexões**: Espaço econômico e dinâmicas regionais. São Paulo: Moderna, 2010. p.121)

A Constituição de 1988 delegou aos estados o poder de legislar sobre a criação da

- a) conurbação.
- b) metropolização.
- c) macrocefalia urbana.
- d) região metropolitana.

15. "O café trouxe consigo a inflação para o Brasil; entre 1824 e 1854, o preço de um homem se multiplicou por dois. Nem o algodão do Norte nem o açúcar do Nordeste, esgotados já os ciclos de prosperidade, podiam pagar aqueles caros escravos. O Brasil se deslocou para o Sul".

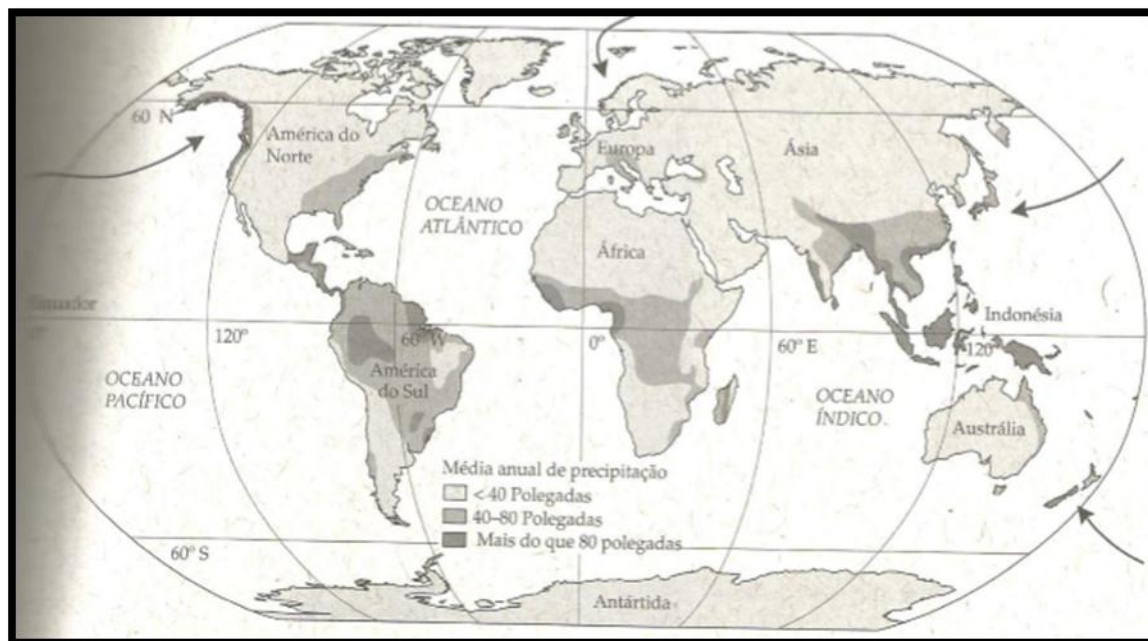
(GALEANO, Eduardo. **As Veias Abertas da América Latina**. Porto Alegre/RS: L&PM, 2011. p.134)

Na formação do Brasil econômico, além da mão de obra escrava, o café usou mão de obra

- de imigrantes europeus, sob a relação de trabalho de meeiro – metade da produção era entregue aos proprietários das terras.
- dos indígenas locais, que praticavam a policultura e o sistema de escambo entre gêneros alimentícios/agrícolas e produtos manufaturados.
- de descendentes asiáticos, que se destacavam no cultivo de hortifrutigranjeiros, fornecendo alimentos que complementavam a alimentação na época.
- de escravos libertos, que por serem livres, apresentavam maior rendimento quanto à produção e, por possuírem salário, alimentavam o crescente mercado capitalista.

16. "A ocorrência dos biomas corresponde aproximadamente à distribuição das zonas climáticas. [...] Os padrões latitudinais e longitudinais refletem o fato de que a vegetação é altamente dependente não apenas do clima local e do solo adjacente, mas também da influência do clima regional da topografia e da pedogênese".

(BROWN, James; LOMOLINO, Mark. **Biogeografia**. Ribeirão Preto (SP): FUNPEC, 2006. p.123)



(BROWN, James; LOMOLINO, Mark. **Biogeografia**. Ribeirão Preto (SP): FUNPEC, 2006. p.113)

O planisfério acima mostra a distribuição da pluviosidade nas diferentes regiões do planeta Terra. De acordo com a média anual de precipitação, qual bioma brasileiro consta com maior regime de pluviosidade?

- Floresta de coníferas.
- Floresta tropical úmida.
- Floresta tropical decídua.
- Floresta temperada úmida.

17."[...] é a junção de empresas do mesmo ramo (horizontal) ou de ramos diferentes (vertical, desde a matéria-prima até a venda) em uma organização empresarial com a finalidade de dominar e pressionar o mercado de um produto ou serviço, eliminando a concorrência".

(TERRA, L.; ARAÚJO, R.; GUIMARÃES, R.B. **Conexões**: Estudos da globalização. São Paulo: Moderna, 2010. p.90)

O texto descreve as características da concentração financeira denominada

- a) cartel.
- b) truste.
- c) holding.
- d) fordismo.

18."[...] concentrou-se na reorganização administrativa do território alemão. A Alemanha derrotada foi dividida em quatro zonas provisórias de ocupação militar, subordinadas aos chefes das forças norte-americanas, britânicas, francesas e soviéticas. Um conselho Interaliado assumiu a gestão do conjunto do território, até a "desnazificação" e a convocação de eleições gerais".

(TERRA, L.; ARAÚJO, R.; GUIMARÃES, R.B. **Conexões**: Estudos da globalização. São Paulo: Moderna, 2010. p.72)

O fragmento de texto refere-se à Conferência de

- a) Yalta.
- b) Berlim.
- c) Potsdam.
- d) Bruxelas.

19."Emblema de uma agricultura globalizada, a soja penetra no Brasil, depois de 1964, a partir de uma frente pioneira no Rio Grande do Sul. [...]. Ancorado na demanda de farelos protéicos para alimentação animal pelos países europeus. [...] nos anos 70 o Paraná havia sido transformado em nova fronteira agrícola [...] tanto para a soja quanto para o binômio soja-trigo".

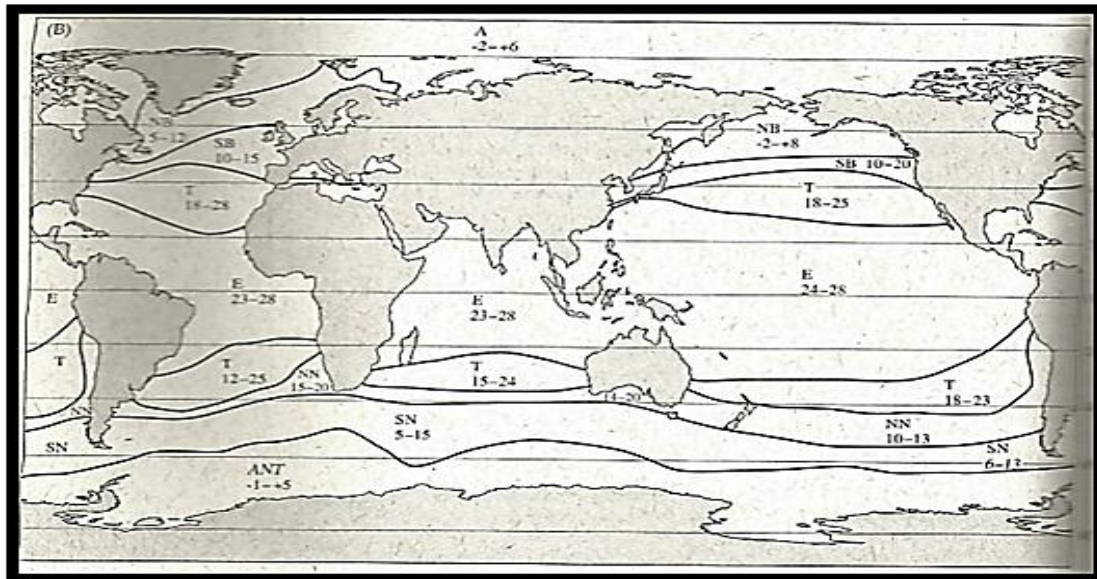
(SANTOS, Milton; SILVEIRA, Maria Laura. **O Brasil**: Território e Sociedade no Início do Século XXI. Rio de Janeiro: Record, 2006. p.128)

Depois de 1980, o ritmo de crescimento agropecuário brasileiro foi marcado, sobretudo, pela expansão da fronteira agrícola para

- a) Mato Grosso, Pará e Amapá.
- b) Mato Grosso, Pará e Tocantins.
- c) Amazônia, Roraima e Rondônia.
- d) Mato Grosso do Sul, Goiás e Mato Grosso.

20. “[...] a história dos mapas reflete a preocupação que o homem sempre teve em representar a superfície terrestre, utilizando técnicas de acordo com o estágio de seus conhecimentos”.

(DUARTE, Paulo Araújo. **Fundamentos de Cartografia**. Florianópolis (SC): ed. UFSC, 2008. p.83)



(BROWN, James; LOMOLINO, Mark. **Biogeografia**. Ribeirão Preto (SP): FUNPEC, 2006. p.124)

O mapa acima foi elaborado de acordo com qual projeção cartográfica?

- a) Peters.
- b) Strahler.
- c) Azimutal.
- d) Mercator.

21. “[...] expandiram suas economias e se industrializaram, com a participação de capital japonês e dos Tigres Asiáticos. [...] o processo de crescimento dos Novos Tigres foi um pouco mais modesto do que o dos primeiros. Os Novos Tigres são menos avançados do ponto de vista tecnológico, a mão de obra é menos qualificada e são menos competitivos no mercado mundial”.

(ALMEIDA, Lucia Marina Alves de; TIGOLIN, Tércio Barbosa. **Fronteiras da Globalização**. (Volume 1, 2 e 3) São Paulo: Ática, 2010. p.200)

Quais países pertencem aos Novos Tigres Asiáticos?

- a) Camboja, Laos, Nepal e Vietnã.
- b) Filipinas, Indonésia, Malásia e Tailândia.
- c) Coréia do Sul, Cingapura, Hong Kong e Taiwan.
- d) Bangladesh, Coréia do Norte, Mianmar e Sri Lanka.

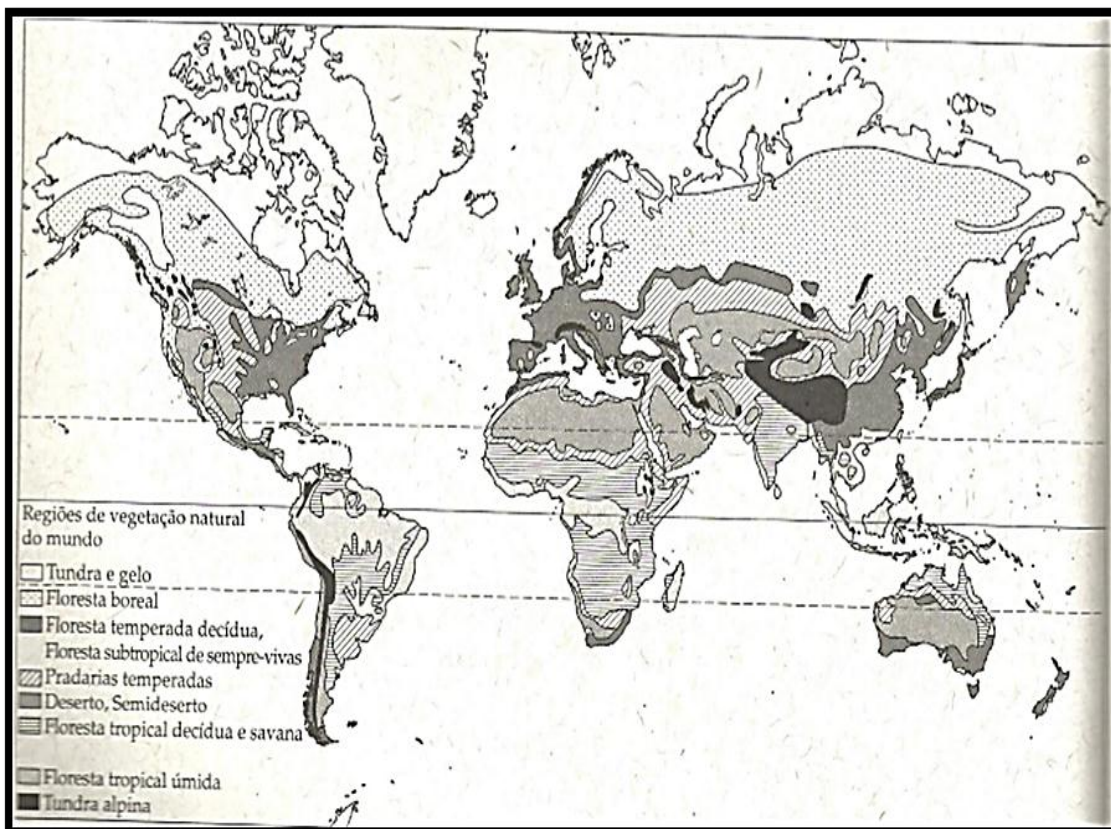
22. "Os deuses africanos continuavam vivos entre os escravos da América, como vivos continuavam, os mitos e as lendas das pátrias perdidas. [...] assim os negros expressavam, em suas cerimônias, em suas danças, em seus exorcismos, a necessidade de afirmação [...]."

(Adaptado de: GALEANO, E. **As Veias Abertas da América Latina**. Porto Alegre (RS): L&PM, 2011. p.119)

O texto nos remete para a questão em que os escravos africanos externavam

- a) a sua vontade de retorno ao continente africano.
- b) a sua identidade cultural negada pelo cristianismo.
- c) o seu anseio por vingança em relação aos escravagistas.
- d) o seu interesse de integração para com os povos indígenas.

23. Observe o mapa abaixo.



(BROWN, James; LOMOLINO, Mark. **Biogeografia**. Ribeirão Preto (SP): FUNPEC, 2006. p.110)

"[...] são biomas dominados por uma fitomassa quase contínua de gramíneas xerófitas perenes, macega e árvores ou arbustos [...] ocorrem numa amplitude de altitudes baixas a intermediárias, em latitudes intertropicais (entre 25° N e 25° S). Bioma caracterizado por uma notável sazonalidade de precipitações, com uma ou duas estações chuvosas, seguidas por intensas secas".

(Adaptado de: BROWN, James; LOMOLINO, Mark. **Biogeografia**. Ribeirão Preto (SP): FUNPEC, 2006. p.115)

O bioma descrito acima é o quarto maior bioma mundial em cobertura vegetal e se distribui em faixas de condições climáticas semelhantes. Logo, a vegetação de cerrado Brasileiro é semelhante/correspondente a qual denominação de bioma mundial?

- a) Tundra.
- b) Estepe.
- c) Savana.
- d) Pradaria.

24. "Desenvolvidas desde 1964 nas regiões fronteiriças com os Estados Unidos [...] são zonas francas isentas de impostos com a condição de que sua produção seja inteiramente reexportada [...] As normas de trabalho e ambientais são pouco restritivas, e a mão de obra, majoritariamente feminina e rural, é muito mais barata do que nos Estados Unidos".

(DURAND, Marie-Françoise [et al]. **Atlas da Mundialização**: Compreender o espaço mundial contemporâneo. São Paulo: Saraiva, 2009. p.152-153)

O texto refere-se a uma importante zona industrial do México, denominada

- a) ZEE's.
- b) Moshav.
- c) Maquiladoras.
- d) Silicon Valley.

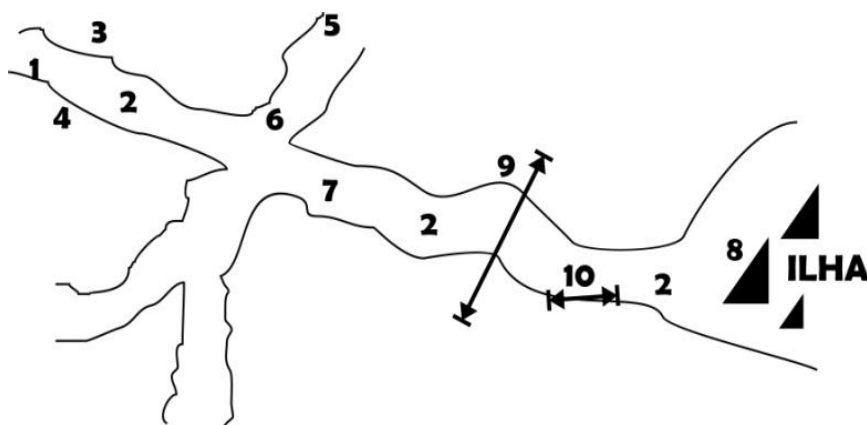
25. "Na primeira metade do século XX, diante das constantes crises [...], muitos economistas começaram a defender a intervenção do Estado como centralizador e regulador da economia [...] Sem interferir na autonomia das empresas privadas, o Estado capitalista tornou-se responsável pelo crescimento e pela promoção de alguns benefícios sociais, o chamado Estado de bem-estar social".

(TERRA, L.; ARAÚJO, R.; GUIMARÃES, R.B. **Conexões**: Estudos da globalização. São Paulo: Moderna, 2010. p.91)

A que doutrina econômica o texto faz referência?

- a) Liberalismo.
- b) Fisiocratismo.
- c) Neoliberalismo.
- d) Keynesianismo.

26. Observe o esquema que representa parte de um rio.



Os números 5 e 6 constituem respectivamente quais partes do referido rio?

- a) Talvegue e Interflúvio.
- b) Subconfluência e Leito.
- c) Afluente e Confluência.
- d) Meandro e Foz em Delta.

27. "São fenômenos de origem tectônica ou vulcânica, e sua incidência espacial está relacionada com as zonas de fragilidade da crosta terrestre. Distribuem-se por grandes alinhamentos bem assinalados no mapa-múndi, os quais, por sua vez, correspondem a fraturas na crosta, já que é constituída por um mosaico de placas em permanente instabilidade. As placas podem se afastar ou convergir sobre as outras, e os terremotos são exatamente as manifestações desses movimentos."

(CONTI, José Bueno. **Clima e Meio Ambiente**. São Paulo: Atual, 1998, p.38)

Como são denominados os movimentos verticais de deslizamento das placas tectônicas?

- a) Orogenéticos.
- b) Convergentes.
- c) Epirogenéticos.
- d) Transformantes.

28. "Em Goiás e Mato Grosso, as modificações dependeram fundamentalmente dos manejos aplicados às terras (...) paralelamente a uma extensiva, ainda que incompleta modernização dos meios de transporte e circulação. Acima de tudo, porém, o desenvolvimento regional deveu-se a uma articulada transformação dos meios urbanos e rurais, a serviço da produção tanto de alimentos básicos, como o arroz, por exemplo, quanto de grãos para consumo interno e exportação (soja)."

(AB'SABER, Aziz. **Os Domínios de Natureza no Brasil**. São Paulo: Ateliê editorial, 2003, p.35)

O texto acima faz referência a qual tipo de vegetação presente no Brasil?

- a) Floresta Amazônica.
- b) Domínio de caatinga.
- c) Formação de cerrado.
- d) Complexo do pantanal.

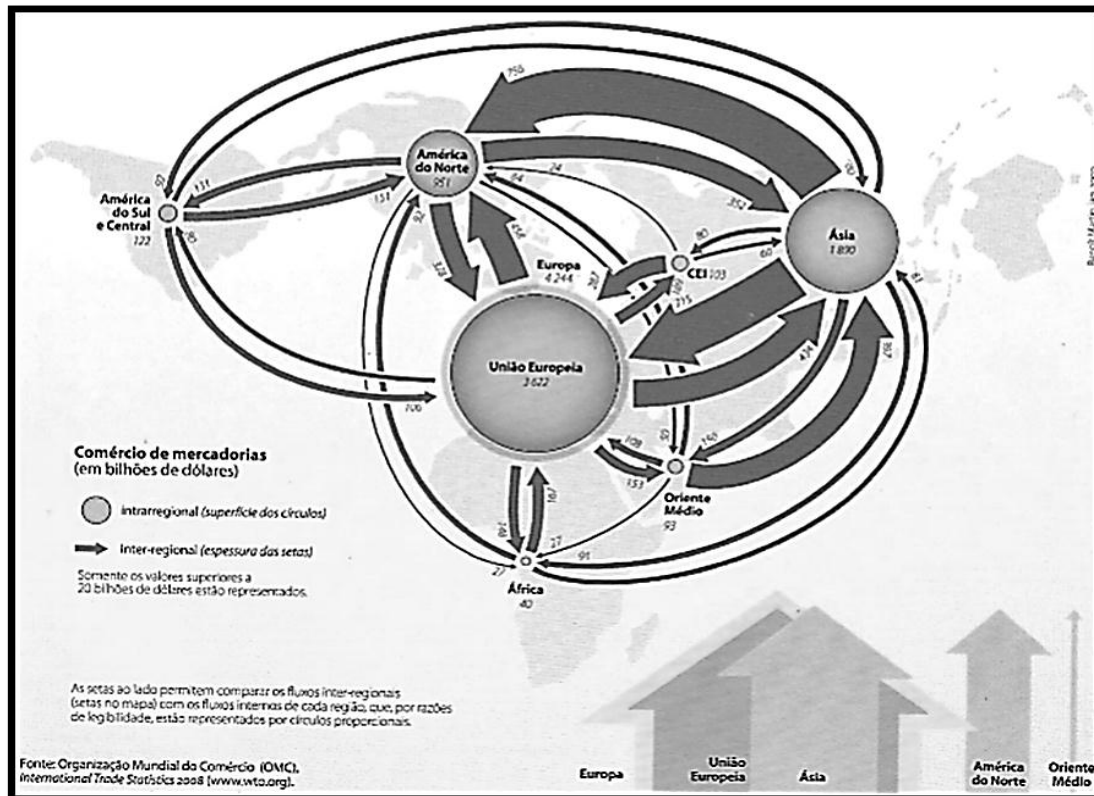
29. "Quando se estuda historicamente a estrutura fundiária no Brasil, ou seja, a forma de distribuição e acesso à terra, verifica-se que desde os primórdios de período colonial essa distribuição foi desigual. Primeiro foram as capitânicas hereditárias e seus donatários, depois foram as sesmarias. Estas estão na origem de grande parte dos latifúndios do país. São frutos da herança colonial quando a terra era doada pela Coroa aos membros da corte."

(OLIVEIRA, Ariovaldo Umbelino de. **Agricultura Brasileira: Transformações Recentes**. In: ROSS, Jurandyr L. Sanches (Org.). Geografia do Brasil. São Paulo: USP, 2009. p.481)

De acordo com OLIVEIRA (2009), a forma de acesso a terra no Brasil é fruto da herança colonial. No entanto, o regime de sesmarias estava assentado sobre três características principais, quais são essas características?

- a) Fronteira - ocupação - militar.
- b) Latifundiário - monocultor - escravagista.
- c) Terras devolutas - ocupação - produção mercado externo.
- d) Território - formação dos estados - definição de fronteiras.

30. Observe a imagem:



(DURAND, Marie-Françoise [et al]. **Atlas da Mundialização**: Compreender o espaço mundial contemporâneo. São Paulo: Saraiva, 2009, p.104)

“No comércio mundial, apesar de uma mudança recente em decorrência da crise econômica, a tendência nos últimos 50 anos tem sido de crescimento sustentado. De 1950 até hoje, os intercâmbios mundiais multiplicaram-se mais de 20 vezes e o crescimento das exportações em (volume) foi superior ao da produção mundial. No conjunto dos câmbios de mercadorias, parte relativa à agricultura não para de diminuir - embora continue sendo um importante ponto de bloqueio das relações comerciais - e a parte relativa aos produtos manufaturados aumenta rapidamente. O comércio de serviços ocupa, por sua vez, lugar de crescente importância [...]”

(DURAND, Marie-Françoise [et al]. **Atlas da Mundialização**: Compreender o espaço mundial contemporâneo. São Paulo: Saraiva, 2009. p.104)

Os países emergentes representam hoje 30% do PIB mundial. No entanto, são cada vez mais dependentes dos mercados globais, seja em relação ao capital e/ou à energia e matérias-primas e, principalmente, aos países desenvolvidos/centrais, para escoar sua produção. Esse fluxo constante de dinâmicas e trocas comerciais configura o que denominamos

- a) substituição das importações.
- b) relações democráticas estatais.
- c) divisão internacional do trabalho.
- d) dinâmica da produção de escopo.

31. "Assim como a Rússia localiza-se acima dos 50º de latitude norte, a China encontra-se abaixo dela, aproximadamente na mesma faixa temperada dos Estados Unidos, com todas as variações climáticas e benefícios que daí decorrem. Harbin, principal cidade da Manchúria, localiza-se a 45º de latitude norte, situação idêntica à do Maine. Pequim fica a 40º de latitude, a mesma de Nova York. Xangai, na desembocadura do Rio Yangtzé, situa-se a 30º, como Nova Orleans. "

(KAPLAN, Robert D. **A Vingança da Geografia**: A construção do mundo geopolítico a partir da perspectiva geográfica. Rio de Janeiro: Elsevier, 2013. p.192)

A extremidade sul da China é cortada por qual paralelo principal?

- a) Linha do equador.
- b) Trópico de câncer.
- c) Círculo polar ártico.
- d) Trópico de capricórnio.

32. "[...] a expansão da economia global, com a ascensão da China, Índia, Brasil e Rússia, além de outras economias em vias de industrialização, para a vanguarda do crescimento capitalista aumentou o risco de colapso financeiro com o empréstimo do capital acumulado nesses países para os Estados Unidos e outros mercados a fim de sustentar a solvência e a capacidade de importação dessas economias e, ao mesmo tempo, tirar proveito das taxas favoráveis de empréstimo."

(CASTELLS, Manuel. **A Sociedade em Rede**. São Paulo: Paz e Terra, 1999. p.V)

Brasil, Rússia, Índia e China então ganharam destaque nas discussões sobre o mercado global e passaram a representar o crescimento dos países emergentes. Em 2011, qual país passou a fazer parte dos BRICS?

- a) Indonésia.
- b) Catalunha.
- c) África do Sul.
- d) Coreia do Sul.

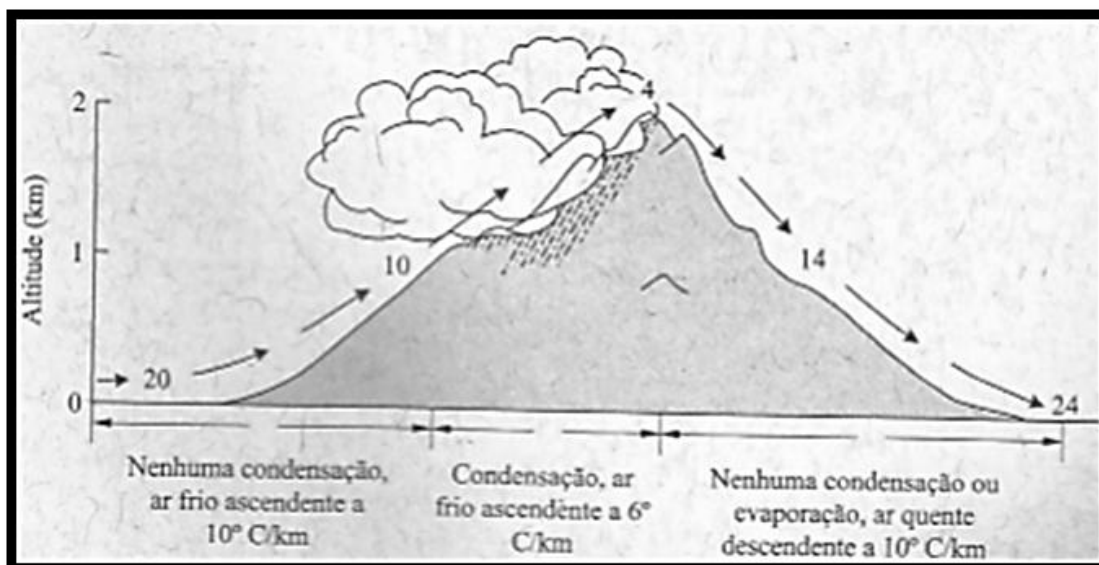
33. "A nova geografia política do mundo, [...], teria como base fundamental o chamado "sistema global", ou sistema-mundo, que seria uma espécie de "ator" muito mais importante que os Estados Nacionais ou mesmo que as associações internacionais tais como a União Europeia. São vários os adeptos dessa interpretação, que possui diferentes versões. O que há em comum entre elas é a crença no enfraquecimento do Estado-nação, que teria deixado de ser o ator privilegiado no cenário mundial – advindo daí a superação do conceito de grande potência -, sendo que a chave para se entender as relações de poder seria o sistema global."

(VESENTINI, José William. **Novas Geopolíticas**. São Paulo: Editora Contexto, 2013. p.38)

O alicerce desse sistema-mundo é o capitalismo e a geopolítica, que podem ser expressos, respectivamente, por

- a) centralização política e econômica.
- b) economia de escopo e soberania militar.
- c) economia mundializada e disputas por poder.
- d) globalização cultural e descentralização política.

34. Observe a imagem abaixo.



(BROWN, James; LOMOLINO, Mark. **Biogeografia**. Ribeirão Preto (SP): FUNPEC, 2006. p.44)

Chuva é o resultado da condensação d'água da atmosfera que se precipitam sobre o solo. Existem diferentes tipos de chuva. O tipo de chuva demonstrado na imagem acima é

- a) Frontal.
- b) Ciclônica.
- c) Orográfica.
- d) Convectiva.

35. "A atual estrutura agrária nos impede de ser uma nação, não é apenas um problema da pequena agricultura. Ela é um obstáculo para a [...] construção de uma nação republicana, democrática, autônoma, independente, que julgo ser a aspiração de todos nós. Somos sujeitos da reforma agrária e ela é a condição para que o nosso sonho de nação se concretize. [...] ela é fundamentalmente um problema político. Reforma agrária não é um problema técnico, não é um problema agrônômico, não se trata de uma busca produtivista. O capitalismo que aí está resolve os problemas de demanda sem dificuldades. Resolve, porém, perversamente, concentrando renda, destruindo, arrebatando a natureza."

(SAMPAIO, Plínio de Arruda. **A Reforma Agrária que nós esperamos**. In: OLIVEIRA, Ariovaldo Umbelino de; MARQUES, Marta Inez Medeiros (Orgs.). O Campo no Século XXI: Território de vida, de luta e de construção da justiça social. São Paulo: ed. Casa Amarela e ed. Paz e Terra, 2004, p.332)

A concentração de riquezas, bem como, a desigualdade social, é verificada pelo parâmetro internacional que varia de 0 a 1, o qual é denominado

- a) Taxa Base.
- b) Índice de Gini.
- c) Coeficiente de Renda.
- d) Índice de Desenvolvimento Humano.

36. "São os gases (dióxido de carbono, metano, óxido nitroso, perfluorcarbono (PFC), hidrofluorcarbonos (HFC) e hexafloro de azoto, entre outros), que impedem que a energia solar que incide sobre a Terra se irradie completamente para além da atmosfera, contribuindo, assim, para que as temperaturas médias do planeta sejam as que conhecemos. Sem os gases, essas temperaturas seriam, aproximadamente, 30°C menores do que são."

(PORTO-GONÇALVES, Carlos Walter. **A Globalização da Natureza e A Natureza da Globalização**. Rio de Janeiro: Civilização Brasileira, 2013. p.326)

A vida, tal como a conhecemos no planeta, é possível, em grande parte, devido aos gases que possibilitam o

- a) efeito estufa.
- b) fenômeno natural.
- c) impacto ambiental.
- d) resultado antrópico.

37. "O crescimento populacional, especialmente a partir da década de 50, nos países do Terceiro Mundo, no entender da teoria Neomalthusiana, determinaria a existência de uma população excedente às possibilidades do desenvolvimento econômico desses países. E assim explicaria seu subdesenvolvimento. Dois terços da humanidade estariam localizados na Ásia, África e América Latina. Isso constituiria um obstáculo ao desenvolvimento, na medida em que essa população expandida, cuja estrutura etária privilegiaria os mais jovens e as crianças, requisitaria investimentos não produtivos – hospitais, escolas, etc. -, desviando recursos que poderiam ser diretamente produtivos – como a construção de fábricas."

(DAMIANI, Amélia. **População e Geografia**. São Paulo: Contexto, 2009. p.23)

Segundo DAMIANI (2009), o crescimento populacional nos países de Terceiro Mundo/periféricos provocaria, ainda,

- a) uma diminuição da força de trabalho laboral, provocando assim, uma crescente demanda por mão de obra braçal para trabalhar na indústria.
- b) uma equidade, tanto do ponto de vista econômico quanto social, que se equilibrariam se houvesse um aumento da população lutando por seus direitos.
- c) um aumento no efetivo da força de trabalho, provocando conseqüente redução de salários e marginalizando camadas da população do mercado de trabalho.
- d) um progressivo crescimento das vagas de emprego, uma vez que, quanto maior a população, mais vagas seriam necessárias e, por sua vez, melhor remuneradas.

38. "Estar desempregado não pode ser chamado de profissão; as pessoas geralmente ficam desempregadas temporariamente, durante o mais curto período de tempo possível. E além das variações, no índice, que se acham ligadas à situação econômica geral, existem outras flutuações rápidas e acidentais que acompanham o mau tempo periódico."

(BEAUJEU-GARNIER, Jacqueline. **Geografia da População**. São Paulo: Ed. Nacional, 1980. p.333)

A população que se encontra desempregada e à procura de emprego pertence a qual classificação de população quanto à economia?

- a) Ativa.
- b) Inativa.
- c) Estável.
- d) Itinerante.

39. "Estudo das rivalidades de poder por territórios, geralmente os territórios de Estados em competição por espaço e cujo modo de ação fundamental é o uso, direto ou indireto, da violência organizada [...] para Friedrich Ratzel e o sueco Rudolf Kjellen, trata das relações entre a política do Estado e os dados "geográficos" (superfície, configuração das fronteiras, recursos do território nacional)".

(DURAND, Marie-Françoise [et al]. **Atlas da Mundialização**: Compreender o espaço mundial contemporâneo. São Paulo: Saraiva, 2009. p.148)

A qual área da Geografia o texto faz referência?

- a) Geopolítica.
- b) Geo-história.
- c) Geoestratégia.
- d) Geografia Política.

40. "À medida que os conteúdos deixam de ser fins em si mesmos e passam a ser meios para a interação com a realidade, fornecem ao aluno os instrumentos para que possa construir uma visão articulada, organizada e crítica do mundo."

(PONTUSCHKA, Nídia Nacib; PAGANELLI, Tomoko Iyda; CACETE, Núria Hanglei. **Para Ensinar e Aprender Geografia**. São Paulo: Cortez, 2009. p.97)

Além de dominar conteúdos, é importante que o professor de Geografia desenvolva a capacidade de utilizá-los como

- a) mecanismos de promoção social.
- b) ferramentas que estimulem a capacidade mnemônica.
- c) estratégias de melhor inserção no mercado de trabalho.
- d) instrumentos para desvendar e compreender a realidade do mundo.