

CIDADES DE CHARQUEADAS E PASSO FUNDO
INSTRUÇÕES GERAIS

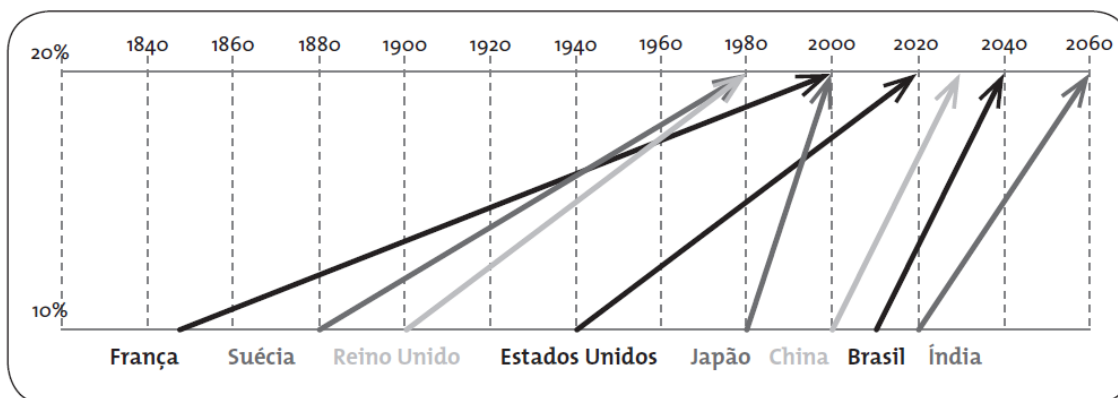
- 1 - Este caderno de prova é constituído por 40 (quarenta) questões objetivas.
- 2 - A prova terá duração máxima de 04 (quatro) horas.
- 3 - Para cada questão, são apresentadas 04 (quatro) alternativas (a – b – c – d).
APENAS UMA delas responde de maneira correta ao enunciado.
- 4 - Após conferir os dados, contidos no campo Identificação do Candidato no Cartão de Resposta, assine no espaço indicado.
- 5 - Marque, com caneta esferográfica azul ou preta de ponta grossa, conforme exemplo abaixo, no Cartão de Resposta – único documento válido para correção eletrônica.

a c d
- 6 - Em hipótese alguma, haverá substituição do Cartão de Resposta.
- 7 - Não deixe nenhuma questão sem resposta.
- 8 - O preenchimento do Cartão de Resposta deverá ser feito dentro do tempo previsto para esta prova, ou seja, 04 (quatro) horas.
- 9 - Serão anuladas as questões que tiverem mais de uma alternativa marcada, emendas e/ou rasuras.
- 10 - O candidato só poderá retirar-se da sala de prova após transcorrida 01 (uma) hora do seu início.

BOA PROVA!

1. Observe a imagem abaixo:

Velocidade do envelhecimento da população (tempo para a população de idosos passar de 10% para 20% da população)



(Envelhecimento e Transição Demográfica. BNDES. Disponível em: <<https://www.bndes.gov.br/wps/portal/site/home/conhecimento/noticias/noticia/envelhecimento-transicao-demografica>>. Acesso em: 15 jan. 2021.).

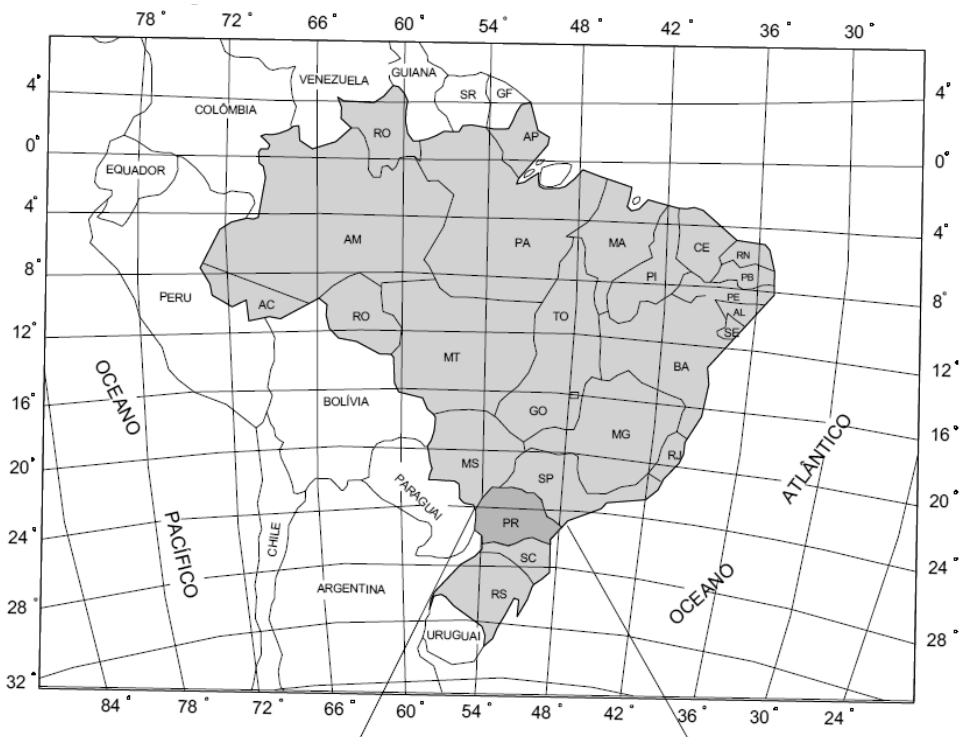
Considere as afirmativas a seguir:

- I. Os países centrais/desenvolvidos em sua totalidade apresentaram um moderado crescimento da população idosa no decorrer do tempo, ao contrário dos emergentes que, devido às incorporações graduais de medidas médico-sanitárias e a políticas de saneamento básico, apresentaram um crescimento mais acelerado.
- II. As modificações expostas na imagem acontecem em um contexto pós-Revolução Industrial, que levou ao processo de urbanização do espaço e à melhoria dos indicadores sociais e econômicos. Isso é visível tanto nos países do “Norte” desenvolvido, quanto nos países do “Sul” subdesenvolvido/emergente.
- III. As consequências na estrutura populacional dos países pesquisados são observadas na redução da População Economicamente Ativa, fazendo com que vários desses adotassem medidas para reverter o quadro, como as políticas de incentivo à imigração.
- IV. Os países emergentes estão na fase IV da transição demográfica, que se caracteriza pela redução drástica das taxas de natalidade e pela aproximação do patamar das já baixas taxas de mortalidade. Isso contribui para o aumento da população de idosos e leva esses países a um período conhecido como “inverno demográfico”.

Estão corretas apenas as afirmativas

- a) I e III.
- b) I e IV.
- c) II e III.
- d) II e IV.

2. Observe o mapa do Brasil abaixo:



Disponível em: <<http://www.ufpr.edu.br>>. Acesso em: 15 jan. 2021.

Quanto à projeção utilizada no mapa, analise as afirmativas a seguir:

- I. É uma projeção cilíndrica, conforme e transversa, tendo o eixo do cilindro perpendicular ao meridiano central de cada fuso.
- II. Possui os seus limites entre as faixas de 90° de Latitude Norte e 84° de Latitude Sul.
- III. Usa o metro como unidade de referência, partindo do Equador (valor de 10.000.000 m) e do Meridiano Central (valor de 500.000 m).
- IV. Tem a desvantagem de não poder ser aplicada em mapeamentos com grande extensão longitudinal (sentido leste-oeste), por conta da limitação de seus meridianos.

Estão corretas apenas as afirmativas

- a) I, II e III.
- b) I, II e IV.
- c) I, III e IV.
- d) II, III e IV.

3. Leia o fragmento abaixo:

“Existem duas frentes fundamentais de migração para a região da fronteira agropecuária: uma é proveniente do Sudeste e majoritariamente do campesinato do Sul, de onde partiram camponeses em busca de novas terras, seja pelo processo de expropriação ou pelo extremo parcelamento das propriedades. Esta frente se estabeleceu principalmente em Rondônia, Mato Grosso e oeste da Bahia, sendo pouco intensa na atualidade. A segunda frente é proveniente do campesinato do Nordeste, importante principalmente para trabalhar nos seringais na Amazônia e para colonizar a porção oriental da região, que compreende parte do estado do Maranhão. Esses camponeses nordestinos, empobrecidos ou expropriados, assim como os do Sul, são atraídos pela fronteira na busca de novas terras, mas também de trabalho”.

(Atlas da Questão Agrária Brasileira. Disponível em:
<http://www.atlasbrasilagrario.com.br/con_subcat/configuracao-da-questao-agraria.>
Acesso em: 16 jan. 2021.).

O processo descrito no texto é decorrente do/a

- a) modernização das técnicas agrícolas, através da Revolução Verde.
- b) estabelecimento da reforma agrária, através do Estatuto da Terra.
- c) implementação das rodovias, através do Plano de Metas.
- d) crescimento da industrialização, através do Milagre Econômico.

4. Analise a tabela a seguir:

País	Expectativa de vida feminina	Expectativa de vida masculina
Noruega	84,3	80,3
Suíça	85,5	81,7
Irlanda	83,7	80,4
Alemanha	83,6	78,8
Austrália	85,3	81,3
Rússia	77,6	66,9
Brasil	79,4	72,0
China	79,1	74,5
África do Sul	67,4	60,5
Índia	70,7	68,2
Burundi	63,0	59,4
Sudão do Sul	59,1	56,1
Chade	55,4	52,6
República Centro-Africana	55,0	50,6
Níger	63,2	60,9
Mundo	74,9	70,4

Disponível em: <<http://hdr.undp.org/sites/default/files/hdr2019.pdf>>. Acesso em: 16 jan. 2021.

Um fator que contribui para as diferenças entre homens e mulheres nos dados apresentados é

- a) a queda das taxas de fecundidade feminina.
- b) o maior registro de homicídios entre os homens.
- c) a queda das taxas de natalidade masculina.
- d) o maior registro de acidentes entre as mulheres.

5. Leia o texto abaixo:

Em uma década, Brasil muda a geografia global de sua carne bovina

Em 2020, o Brasil bateu dois recordes na exportação de carne bovina. Em valor, saltou para a casa de US\$ 8,47 bilhões. Em volume, foi para a casa de 2 milhões de toneladas pela primeira vez na história do setor. Por trás desse desempenho está uma mudança significativa no mercado de proteína animal: a sua geografia.

Há uma década, o comércio com a Ásia (excluindo o Oriente Médio) não se destacava dos demais blocos econômicos. Em 2011, esse bloco comprou 210,9 mil toneladas de carne *in natura*, processados e miúdos, por US\$ 783 milhões. Em volume, a Ásia não ficava muito longe do que compravam os 28 países da União Europeia, que naquele ano fecharam compras no valor de US\$ 813,4 milhões para 107,9 mil toneladas. Ou longe dos Países Árabes, com 199,9 mil toneladas por US\$ 901,1 milhões.

Passados 10 anos, as vendas para o bloco asiático saltaram quase seis vezes. No ano passado foram 1,26 milhão de toneladas por US\$ 5,42 bilhões. As vendas realizadas diretamente com a China, que foram de 2,9 mil toneladas, por US\$ 10,7 milhões em 2011, saltaram no ano passado para 868,7 mil toneladas, por US\$ 4 bilhões. E Hong Kong, que continua como fornecedor chinês, levou do Brasil outros 312,5 mil toneladas, por US\$ 1,1 bilhão.

(Portal DBO. Disponível em: <<https://www.portaldbo.com.br/em-uma-decada-brasil-muda-a-geografia-global-de-sua-carne-bovina/>>. Acesso em: 16 jan. 2021.).

O que desencadeou essa mudança geográfica na última década, conforme apontado no texto, está relacionado com

- a) o processamento de *commodities* agrícolas no continente europeu.
- b) a ocorrência de insurreições populares nos países árabes.
- c) a influência de hábitos globalizantes nas sociedades orientais.
- d) o crescimento de excedentes alimentares no território brasileiro.

6. Leia o fragmento abaixo:

“Menor dos biomas brasileiros, o Pantanal possui uma área de 150 mil km², o que equivale a menos de 2% do território do país, e está distribuído entre os estados de Mato Grosso e Mato Grosso do Sul. ‘O Pantanal é um grande ecótono na América do Sul’, diz Erich Fischer, professor do Programa de Pós-Graduação em Ecologia e Conservação da UFMS.”

Disponível em: <<https://www.nationalgeographicbrasil.com/natgeo-ilustra/pantanal>>. Acesso em: 16 jan. 2021.

A afirmação feita pelo professor citado no texto sobre o referido bioma explica-se, porque este

- a) possui um domínio florestado, caracterizado por sua grande biodiversidade.
- b) localiza-se em uma zona intermediária entre a Amazônia e o Cerrado.
- c) encontra-se em uma faixa fronteira entre o Brasil e o Paraguai.
- d) constitui um potencial econômico, devido à sua produção agropastoril.

7. Leia o texto abaixo, publicado no dia 23 de setembro de 2020.

Brasil renova pedido por lugar permanente no Conselho de Segurança da ONU

Brasil, Alemanha, Japão e Índia exigiram nesta quarta-feira, 23, às margens da 75ª Assembleia-Geral das Nações Unidas, um assento permanente no Conselho de Segurança da organização, que, então, seria ampliado de 15 para 19 membros. [...] Para os quatro países, é urgente reformar o Conselho de Segurança, ampliando-o para “torná-lo mais representativo, legítimo e eficaz”. Caso contrário, segundo avaliam as autoridades envolvidas no pedido, o órgão corre o risco de se tornar “obsoleto”.

(Revista Veja. Disponível em: <<https://veja.abril.com.br/mundo/brasil-renova-pedido-por-lugar-permanente-no-conselho-de-seguranca-da-onu/>>. Acesso em: 17 jan. 2021.).

Considere as afirmativas a seguir sobre o Conselho de Segurança da Onu:

- I. O referido órgão foi fundado em 1945, a partir da organização geopolítica estabelecida após a II Guerra Mundial, tendo a sua estrutura montada após a vitória dos países ocidentais sobre o Eixo.
- II. Os países interessados em participar desse Conselho têm uma significativa hegemonia geopolítica, em nível regional. Possuem estruturas sociais, econômicas e culturais diversificadas entre si.
- III. A reforma pode refletir a multipolaridade na ordem mundial dos dias atuais, ao expandir os assentos permanentes para os países emergentes e ao garantir a inserção da totalidade das regiões no globo.
- IV. As dificuldades encontradas para a realização da reforma decorrem, dentre outros fatores, da resistência dos países vizinhos dos aspirantes, os quais temem um desequilíbrio de forças.

Estão corretas apenas as afirmativas

- a) I e IV.
- b) II e III.
- c) II e IV.
- d) I e III.

8. Observe a imagem abaixo:



(ROSS, J. L. S. (org.) **Geografia**. São Paulo: Edusp, 1995. p. 55.).

Os tipos de vegetações predominantes no perfil topográfico apresentado, no sentido leste-oeste, são respectivamente:

- a) Mata Atlântica e Caatinga.
- b) Caatinga e Mata dos Cocais.
- c) Mata dos Cocais e Cerrado.
- d) Cerrado e Mata Atlântica.

9. Segundo os dados do Censo 2010, nas principais metrópoles brasileiras mais de 13 milhões de pessoas se deslocam diariamente entre os municípios, seja para trabalhar ou estudar. Metrôpoles como São Paulo e Rio de Janeiro não suportam mais deslocamentos baseados predominantemente no automóvel individual. É o que mostra os resultados do IBEU Mobilidade. Ao analisar o indicador deslocamento casa-trabalho nas 15 principais regiões metropolitanas do país, o INCT Observatório das Metrôpoles verificou que em São Paulo o bem-estar urbano em relação à mobilidade é 17 vezes menor do que a média; na região metropolitana do Rio é 37 vezes menor. (Observatório das Metrôpoles.

Disponível em: <<https://ibeu.observatoriodasmetrolopes.net.br/ibeu-global/>>
Acesso em outubro de 2021)

Sobre as metrópoles contemporâneas, considere as afirmativas a seguir:

- I. As metrópoles possuem, ao mesmo tempo, semelhanças e diferenças em sua configuração espacial, na sua história e nas desigualdades existentes.
- II. Forma, função, estrutura e processo são conceitos trazidos por Henri Lefebvre, os quais ajudam a entender a produção do espaço urbano. Tais elementos são passíveis de mudanças e adaptações no decorrer da História, na medida em que ocorrem novas formas de apropriação do capital e das forças de produção.
- III. A fragmentação do espaço urbano que ocorre nas metrópoles consiste nas formas de diversificação socioespacial, dada a multiplicidade de agentes e culturas que formam e dão vida às cidades, possibilitando a sua unidade.
- IV. A hierarquização do espaço urbano remete à apropriação desigual dos espaços metropolitanos pela economia capitalista e culmina em um processo de divisão territorial do trabalho cada vez mais aprofundada.
- V. A disseminação das redes materiais e imateriais contribuem para homogeneizar certas condições de produção no espaço, bem como para facilitar os fluxos entre as diferentes áreas e entre diferentes núcleos urbanos.

Estão corretas apenas as afirmativas

- a) II, IV e V.
- b) I, IV e V.
- c) I, II e III.
- d) II, III e IV.

10. Leia o texto abaixo:

Paraíba é estado com maior número de regiões metropolitanas, diz IBGE

A Paraíba é o estado com maior número de regiões metropolitanas, com 12, de acordo com a pesquisa Regiões Metropolitanas, Aglomerações Urbanas e Regiões Integradas de Desenvolvimento, divulgada pelo IBGE (Instituto Brasileiro de Geografia e Estatística) nesta terça-feira (17). A pesquisa aponta que o país tem 74 regiões metropolitanas. Após da Paraíba, aparece Santa Catarina, com 11, Alagoas, com nove, e Paraná, com oito.

(R7 Notícias. Seção Economia, 17 nov. 2020. Disponível em: <<https://noticias.r7.com/economia/paraiba-e-estado-com-maior-numero-de-regioes-metropolitanas-diz-ibge-17112020>>. Acesso em: 17 jan. 2021.).

A referida notícia expõe um processo que vem acontecendo na rede urbana brasileira ao longo dos últimos anos, em várias das Unidades da Federação.

Tal processo é predominantemente estimulado pelo(a)

- a) conurbação física entre as cidades.
- b) financiamento público para as comunidades.
- c) desenvolvimento técnico das redes logísticas.
- d) influência política nos poderes legais.

11. Analise a tabela a seguir:

País	Densidade Demográfica (hab/km ²)	IDH	País	Densidade Demográfica (hab/km ²)	IDH
Singapura	8.634,12	0,935	Canadá	3,78	0,922
Bahrein	1.980,27	0,838	Islândia	3,41	0,938
Maldivas	1.315,11	0,719	Austrália	3,29	0,938
Bangladesh	1.095,59	0,614	Namíbia	3,19	0,645
Bélgica	383,93	0,919	Mongólia	2,03	0,735

(Tabela autoral com base em: <<http://hdr.undp.org/sites/default/files/hdr2019.pdf>>. Acesso em: 16 jan. 2021. e em: Index Mundi. Disponível em: <<https://www.indexmundi.com/g/r.aspx?v=21000&l=pt>>. Acesso em: 18 jan. 2021.).

Sobre os dados apresentados, leia as seguintes afirmações:

- I. A densidade demográfica, por ser um dado puramente aritmético, não determina o nível de desenvolvimento de um país ou território, pois esse desenvolvimento é influenciado por fatores de ordem econômica, social e/ou política.
- II. O superpovoamento ocorre quando uma elevada densidade demográfica pode agravar o já baixo padrão de vida em um país subdesenvolvido, dado o desequilíbrio entre a população e os recursos disponíveis, como é o caso de Bangladesh e Maldivas, por exemplo.
- III. O subpovoamento é o oposto do superpovoamento, pois significa que uma baixa densidade demográfica proporciona um alto desenvolvimento humano, como é o caso de Canadá, Islândia e Austrália, países de elevado IDH.

Está (ão) correta (s) apenas a (s) afirmativa (s)

- a) I.
- b) III.
- c) II e III.
- d) I e II.

12. A respeito da pluriatividade que acontece no espaço rural, analise as seguintes afirmativas:

- I. Dentre as situações que podem ser consideradas como pluriativas, pode-se citar o caso de agroindústrias que são instaladas dentro das propriedades rurais, para beneficiar e processar a própria matéria-prima ali cultivada.
- II. Uma das tendências observáveis nesse fenômeno é a redução do número de trabalhadores agrícolas que lidam diretamente na produção e que representam um número até inferior em relação à população rural de um país ou região.
- III. Trata-se de um fenômeno que ocorre nas economias capitalistas mais avançadas, presente nos Estados Unidos, na União Europeia e no Japão, principalmente na agricultura patronal, cada vez mais tecnificada.
- IV. O fenômeno em questão torna cada vez mais tênue os limites tradicionais entre os conceitos de urbano e de rural, dada a crescente modernização e relação de dependência entre o campo e a cidade.

Estão corretas apenas as afirmativas

- a) I, II e IV.
- b) I, II e III.
- c) II, III e IV.
- d) I, III e IV.

13. Analise o mapa abaixo e leia o texto que o segue.




“A Parceria Econômica Global Abrangente (RCEP) é um acordo de livre comércio entre 15 países da região Ásia-Pacífico. Esse novo bloco econômico corresponde a mais de 30% do PIB mundial e quase $\frac{1}{3}$ da população do planeta, além de reunir muitas das maiores e mais pujantes economias da região Ásia-Pacífico, as quais deixaram diferenças geopolíticas de lado para concretizar o acordo. Após mais de trinta rodadas de negociações, iniciadas no final de 2011, quando foi introduzida a ideia da RECP, o acordo finalmente foi assinado em 15 de novembro de 2020”.

Disponível em: <<https://www.fazcomex.com.br/blog/rcep-formado-o-maior-bloco-comercial-do-mundo/>>. Acesso em: 18 jan. 2021.

A parceria destacada no texto visa a

- a) democratizar o comércio global.
- b) promover a união monetária.
- c) fortalecer a política multilateral.
- d) estabilizar a ordem geopolítica.

14. Observe a imagem abaixo:



(Instituto de Urbanismo Colaborativo. Disponível em: <<http://www.courb.org>>. Acesso em: 18 jan. 2021.).

O processo mostrado na imagem acima ocorre nas cidades em geral, seja nos países centrais/desenvolvidos, seja nos países periféricos/subdesenvolvidos.

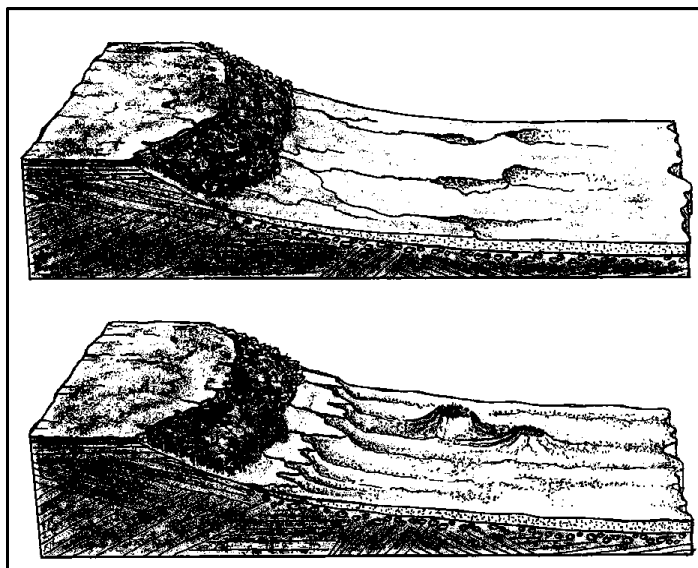
Dentre as possíveis consequências que ele pode acarretar, destaca-se

- o deslocamento da população original.
- o surgimento da economia horizontal.
- a promoção da diversidade social.
- a compactação da área central.

15. Observe a imagem ao lado:

A paisagem apresentada é decorrente da influência natural do/a

- intemperismo físico em ambientes de formação Paleozóica.
- erosão eólica em ambientes de formação terciária.
- intemperismo químico em ambientes de formação quaternária.
- erosão hídrica em ambientes de formação Mesozóica.



(SUERTEGARAY, D. M. A. et al. Projeto Arenização no Rio Grande do Sul, Brasil: Gênese, **Dinâmica e Espacialização**. In: Revista Bibliográfica de Geografía y Ciencias Sociales. Universidad de Barcelona, n. 287, 26 mar. 2001. Disponível em: <<http://www.ub.edu/geocrit/b3w-287.htm>>. Acesso em: 19 jan. 2021.).

16. Observe a imagem abaixo:



(Disponível em: <<https://www.buzzfeed.com/jessicalima/eres-milhouse>>. Acesso em: 20 jan. 2021.).

A estrutura familiar, retratada no desenho acima, é característica de países em fase demográfica

- a) de pré-transição.
- b) de aceleração.
- c) de queda.
- d) de estabilidade.

17. Leia o texto abaixo:

Placa Mercosul, mais segura, já está em 14 milhões de carros

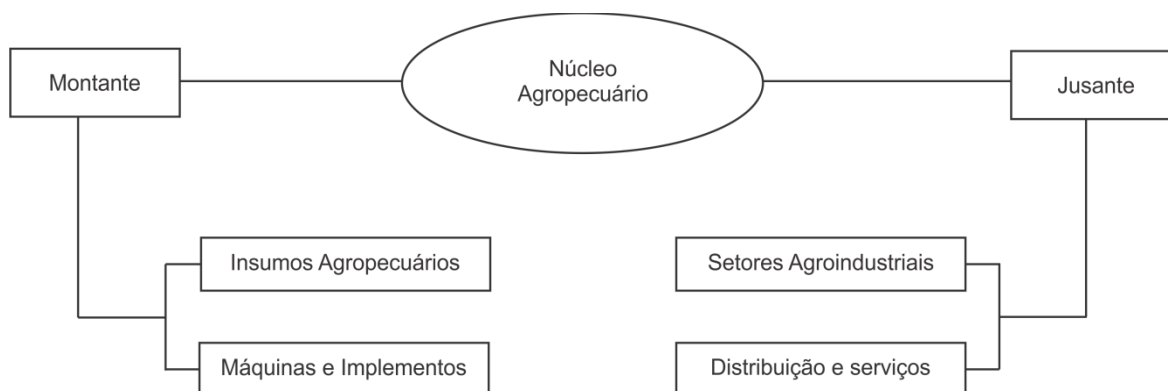
Mais de 14 milhões de veículos já rodam com a nova placa do Mercosul no Brasil. A região com maior número de PIVs (Placas de Identificação Veicular) é o Sul do Brasil, com mais de 5,8 milhões de estampagens, seguido do Sudeste, com 5 milhões, e o Nordeste, com um pouco mais de 2 milhões. O diferencial da PIV, em relação ao modelo cinza atualmente utilizado, está principalmente nos itens de segurança, como o QR Code desenvolvido pelo Serpro, que possibilita a rastreabilidade da placa.[...] O novo modelo, com 4 letras e 3 números, permite mais de 450 milhões de combinações, o que, considerando a tendência de crescimento da frota de veículos no Brasil, pode valer por mais de 100 anos. Para obter a PIV basta comparecer ao posto de atendimento local do Detran com a documentação necessária e seguir as recomendações. Vários órgãos também fazem todo o procedimento online, incluindo o agendamento para a troca da placa.

Disponível em: <<https://www.terra.com.br/parceiros/guia-do-carro/placa-mercosul-mais-segura-ja-esta-em-14-milhoes-de-carros,6c67665a32620fcd82ffa866d0be41e7b1wk1Inf.html>>. Acesso em: 19 jan. 2021.

A medida adotada no Brasil, explicitada no texto, tem por objetivo

- a) promover a integração no bloco econômico.
- b) diminuir a burocracia no território nacional.
- c) internacionalizar o sistema de redes viárias.
- d) garantir a autonomia das unidades federativas.

18. Observe a imagem abaixo:



Disponível em: <http://www.scielo.br/scielo.php?script=sci_arttext&pid=S0103-20032005000400006>. Acesso em: 19 jan. 2021.

A estrutura apresentada na imagem acima é decorrente do/a

- processamento da produção orgânica.
- financeirização da agricultura camponesa.
- desenvolvimento do manejo pastoril.
- industrialização do espaço rural.

19. Leia o fragmento abaixo:

“A agricultura de precisão - conjunto de técnicas que permitem o gerenciamento localizado dos cultivos - desponta como promessa no cenário brasileiro. O Sistema de Posicionamento Global (GPS), Sistema de Informações Geográficas (GIS) e máquinas de aplicação localizada de insumos a taxas variáveis são algumas das ferramentas que tratam, especificamente, cada ponto da propriedade agrícola. Para essa tarefa, cada particularidade do solo é considerada. O resultado é a otimização dos gastos da produção agrícola”.

(Ageitec – Agência Embrapa de Informação Tecnológica. Disponível em: <https://www.agencia.cnptia.embrapa.br/gestor/cana-de-acucar/arvore/CONTAG01_72_711200516719.html> Acesso em: 19 jan. 2021.).

Qual é o papel do GPS para as técnicas descritas acima?

- Tratamento de arquivos *shapefiles*.
- Geração de imagens fotogramétricas.
- Aplicação de dados georreferenciados.
- Processamento de mapas temáticos.

20. Observe a projeção abaixo:



(Brasil Escola. Disponível em: <<https://brasilecola.uol.com.br/geografia>>. Acesso em: 20 jan. 2021.).

A projeção utilizada no mapa-múndi acima é do tipo

- a) Cilíndrica Conforme.
- b) Cilíndrica Equivalente.
- c) Cônica Conforme.
- d) Cônica Equivalente.

21. Para Claval (2014), o trabalho do geógrafo nasce de uma permanente exigência entre dois pontos, o primeiro baseado nas relações espaciais da vida coletiva, e o segundo, na análise da influência dos instrumentos e categorias das outras disciplinas nos contextos espaciais.

Claval denomina a segunda como vertente de científica, enquanto aquela, referente aos fazeres da vida cotidiana, como Geografia

- a) vernacular.
- b) tradicional.
- c) etnográfica.
- d) descritiva.

22. Santos (2008) discute a relação da geografia com outras ciências, para que possamos estudar aspectos da realidade globalmente. Aponta que, em virtude do objeto da Geografia sempre ser deixado em segundo plano, seu desenvolvimento no campo teórico e metodológico ficou atrasado em relação a outras ciências. Ele afirma que precisamos nos centrar em uma categoria em específico tal qual como se apresenta, isto é, como um produto histórico.

A categoria referida pelo autor é

- a) lugar.
- b) espaço.
- c) território.
- d) paisagem.

23. Santos (2008) sugere que a ciência deve cuidar do futuro para dominá-lo. Ele defende um projeto de cuidado da natureza para que esta não se torne hostil à humanidade. Para que esse projeto seja concretizado, precisamos redobrar nossa vigilância, especialmente no que se refere a reconhecer os agentes produtores do espaço.

Os agentes a serem reconhecidos como produtores de espaço são:

- a) o organizador da produção, os donos dos meios de produção e o trabalhador.
- b) a natureza, o estado e o capital.
- c) a globalização, o espaço geográfico e o capital.
- d) a natureza, as empresas transnacionais e o capital.

24. Leia o fragmento abaixo, publicado no Jornal da USP, em 7 de agosto de 2020.

“A destruição da floresta amazônica segue em ritmo acelerado no Brasil. Dados de monitoramento por satélite divulgados nesta sexta, dia 7, pelo Instituto Nacional de Pesquisas Espaciais (Inpe) mostram que a taxa de desmatamento na Amazônia aumentou 34% nos últimos 12 meses, em comparação com o mesmo período do ano anterior”.

Disponível em: <<https://jornal.usp.br/ciencias/desmatamento-da-amazonia-dispara-de-novo-em-2020/>>
Acesso: em jan. 2021.

O excerto acima refere-se ao tema desmatamento no Brasil. A análise de tal cenário leva-nos a avaliar a relação de fatores socioeconômicos com a transformação da natureza.

Considerando esse problema de ordem nacional, afirma-se que o conceito de justiça ambiental não está sendo plenamente atendido, já que ele se refere a um conjunto de princípios, o qual estabelece que

- a) os animais silvestres, exclusivamente, são protegidos em seu habitat natural.
- b) os indígenas, exclusivamente, são plenamente atendidos em suas necessidades básicas.
- c) nenhum grupo social arca com as consequências geradas pelos efeitos do desmatamento.
- d) os indígenas e animais silvestres, exclusivamente, são protegidos na floresta.

25. Compreender o conceito de Espaço Geográfico e suas categorias balizadoras é fundamental para a compreensão da relação entre a sociedade e a natureza.

Analise as afirmativas abaixo e marque V, para as verdadeiras, e F, para as falsas:

- () O conceito de lugar está relacionado especialmente à questão ambiental.
- () O espaço geográfico é avaliado a partir de dois conceitos centrais: ambiente e lugar. Os demais não são relevantes para o seu entendimento.
- () A paisagem relaciona-se àquilo que a sociedade produz e ao que a natureza primeira produziu e que está visível.
- () O homem, individualmente, é o mais atuante transformador do espaço geográfico.

A sequência correta, de cima para baixo, é

- a) V - V - V - V.
- b) F - F - V - F.
- c) F - F - F - F.
- d) V - V - F - F.

26. O Reino Unido deixou a União Europeia (UE) em 31 de janeiro de 2020, mas as principais mudanças na vida dos cidadãos comuns europeus e britânicos só serão notadas em 2021.

O Brexit prevê, entre outras mudanças, a

- a) manutenção das estadas ilimitadas para estrangeiros.
- b) gestão da livre circulação de pessoas.
- c) manutenção do mercado comum com os países da UE.
- d) gestão de controles aduaneiros e a limitação de serviços.

27. Segundo Ross (2009), o aumento das exportações e importações nas últimas décadas foi possível graças à inserção cada vez maior do Brasil no contexto do capitalismo monopolista, por meio da contrapartida da elevação da dívida externa.

O autor destaca que o aumento da produção no país ocorreu em função do/a

- a) acumulação capitalista mundial.
- b) necessidade de maior produção de alimentos.
- c) presença de empresas estrangeiras no país.
- d) aumento do consumo da população brasileira.

28. Segundo o IBGE, comparativamente a dados anteriores, o terceiro trimestre de 2020 apresentou um crescimento do Produto Interno Bruto (PIB) brasileiro na ordem de 7,7%. No entanto, ainda não foram alcançados os patamares anteriores à pandemia do coronavírus. A pesquisa também aponta que o setor de serviços, somado aos gastos governamentais, é o que mais colaborou com esse dado.

Portanto, os elementos que colaboraram para o crescimento do PIB em 2020 foram:

- a) construção civil, investimento em obras de infraestrutura e redução do dólar.
- b) gastos de brasileiros no exterior, viagens a turismo e restaurantes.
- c) comércio, agricultura e produção de energia.
- d) pacote de estímulos fiscais, juros baixos e comércio externo favorável.

29. Leia o excerto abaixo.

“A atividade industrial está intimamente ligada aos padrões estéticos. Arte e técnica sempre caminharam de forma inseparável. Ao desenhar um produto a ser industrializado e colocado no mercado, o produtor tem que levar em consideração o gosto do consumidor em relação aos aspectos estéticos do produto. Portanto, o processo de industrialização tem implicações muito mais amplas do que as de natureza econômica”. (ROSS, 2019).

Considerando a exposição do autor em relação ao processo de industrialização e o fato de que o Brasil é um país capitalista industrializado em desenvolvimento, e que o papel do Estado como intermediador desse processo, consolidou-se como agente

- a) monopolizador dos mercados.
- b) descentralizador, que privilegia a presença de recursos naturais.
- c) concentrador de empresas junto aos mercados consumidores.
- d) promotor do bem-estar social.

30. A industrialização favoreceu a reorganização das relações sociais em relação aos territórios. Uma série de conflitos foram gerados a partir dos interesses do Estado e da iniciativa privada. Um desses conflitos refere-se ao controle da exploração e da produção de energia.

Em relação ao Brasil, segundo Ross (2019), esse dilema fez com que, no território brasileiro, fossem explorados, principalmente por empresas estrangeiras, os seguintes elementos:

- a) petróleo, gás natural e carvão.
- b) petróleo, ouro e ferro.
- c) nióbio, mercúrio e ferro.
- d) ferro, manganês e bauxita.

31. Hobsbawn (2007), quando trata sobre as perspectivas para o século XXI, indica que o enfraquecimento do poder do Estado, a desregulamentação de mercados, a substituição de serviços públicos por privados e a ideia de que o setor privado é mais eficiente do que o setor público e de que o cidadão é substituído pelo consumidor são elementos para compreender o mundo contemporâneo.

Nesse cenário, a democracia torna-se enfraquecida; disso, segundo o autor, decorre um problema crescente, que é o aumento do/a

- a) violência urbana.
- b) violência política.
- c) número de estados ditatoriais.
- d) poder dos estados-nação.

32. Conforme o pesquisador Acselrad (2009), o entendimento de que o desperdício de matéria e energia constitui-se como o núcleo dos problemas ambientais é apontado como uma tendência governamental para estimular a modernização ecológica, de modo a promover a eficiência e ativar os mercados.

Na visão do pesquisador, essa é uma alternativa de abordagem

- a) moderna.
- b) conservadora.
- c) justa.
- d) crítica.

33. O mundo liberal contemporâneo sustenta a crença na democracia e na proteção dos direitos humanos. No entanto, a História vem registrando eventos que mostram o quão incompetentes vêm sendo os governos no sentido de sustentar esses princípios liberais.

Hobsbawn (2007) aponta dois elementos que contribuem para esse fracasso:

- a) a soberania do mercado e a manipulação da opinião pública.
- b) a globalização e a ação de governos ditatoriais.
- c) Os fatores desemprego e o tráfico humano.
- d) o efeito climático aquecimento global e o terrorismo.

34. Leia o fragmento abaixo.

“A prática da especulação imobiliária é [...] incompatível com a função social da propriedade, uma vez que não visa aos interesses de toda a coletividade, mas apenas aos interesses de uma só pessoa ou de um grupo específico. Além disso, não raro, há aqueles que compram imóveis somente para vê-los valorizarem-se com o passar dos anos, fazendo deles, após esse lapso temporal, sua fonte de renda, considerando que podem alugá-los ou vendê-los por um preço elevado”.

Disponível em: <<https://jus.com.br/artigos/21386/a-ilegalidade-da-especulacao-imobiliaria>>. Acesso em: jan. 2021.

O trecho acima narra o problema gerado pela especulação imobiliária aos distintos atores sociais que vivem em áreas urbanas.

Para as áreas urbanas, há os seguintes interesses coletivos:

- a) saúde, habitação, trabalho e mobilidade.
- b) educação, habitação, saúde e trabalho.
- c) patrimônio cultural, educação, habitação e trabalho.
- d) habitação, trabalho, lazer e mobilidade.

35. Leia o fragmento abaixo:

“A Zona de Livre Comércio Continental Africana entrou em vigor nesta sexta-feira (1º) e se torna a maior área de livre comércio do mundo em relação ao número de países participantes. O acordo de estabelecimento da AfCFTA (sigla em inglês) foi assinado em março de 2018 por 54 dos 55 países membros da União Africana e ratificado por 31. As negociações tiveram início em 2015. De acordo com o Banco Mundial, o bloco econômico soma mais de 1,3 bilhão de pessoas e um PIB conjunto de US\$ 3,4 trilhões. A entidade também estima que, com as mudanças, mais de 30 milhões de pessoas deixem a extrema pobreza na região”.

Disponível em: <<https://g1.globo.com/mundo/noticia/2021/01/01/zona-de-livre-comercio-continental-africana-entra-em-vigor.ghtml>> Acesso em: jan. 2021.

O excerto acima refere-se à criação de uma zona de livre comércio no continente africano, o que é uma tendência do mundo globalizado.

As características da zona de livre comércio são:

- a) redução/eliminação de taxas alfandegárias e implantação da TEC.
- b) livre circulação de pessoas e de capitais.
- c) livre circulação de capitais e de serviços.
- d) tarifa externa comum e livre circulação de mercadorias.

36. O Mercosul é um importante bloco econômico em vigor na América Latina desde 1991. Há três classificações para os países participantes, os efetivos, os associados e os observadores.

Os países considerados membros efetivos são:

- a) Brasil, Uruguai, Paraguai, Argentina e Chile.
- b) Brasil, Uruguai, Paraguai, Argentina e Venezuela.
- c) Brasil, Venezuela, Paraguai, Argentina e Bolívia.
- d) Brasil, Uruguai, Equador, Argentina e Chile.

37. De acordo com Sandra Lencioni, professora da USP, a megarregião Rio de Janeiro-São Paulo constitui-se como o centro, na medida em que coloca em conexão o capital que se reproduz no Brasil com o conjunto da produção capitalista em escala global.

Texto adaptado e Disponível em: <<https://www.observatoriodasmetrolopes.net.br/megarregiao-rio-de-janeiro-sao-paulo-metropolizacao-do-espaco-e-integracao-global/>> Acesso em: 26 jan. 2021.

A análise acima apresenta um processo global de *continuum* entre duas metrópoles, o qual integra fluxos e capitais e é denominado

- a) Metrôpole Global.
- b) Metrôpole Nacional.
- c) Conurbação.
- d) Metrôpole Regional.

38. Leia o texto abaixo:

A Ford anunciou em 11 de janeiro de 2021 que encerrará a produção de veículos no Brasil. As duas principais justificativas são a continuidade do ambiente econômico desfavorável e pressão adicional causada pela pandemia do covid-19. Três fábricas serão fechadas: Camaçari, na Bahia, onde os modelos EcoSport e Ka são produzidos; Taubaté, em São Paulo, que produz motores; e Horizonte, no Ceará, que fabrica jipes da marca Troller. As duas primeiras terão suas atividades encerradas imediatamente, enquanto a última, até o quarto trimestre deste ano.

Texto adaptado e disponível em: <<https://www.bbc.com/portuguese/internacional-55640907>> Acesso em: 26 jan. 2021.

O anúncio acima apresenta uma dinâmica presente no cotidiano do mundo capitalista contemporâneo, a qual consiste

- a) no menor uso de carros devido ao aumento do uso de bicicletas para fins de mobilidade.
- b) no aumento do trabalho remoto a partir de casa, em função da pandemia.
- c) na Divisão Internacional do Trabalho em que a empresa busca melhores acordos entre as nações.
- d) no investimento do governo federal no setor primário em detrimento do secundário.

39. Leia o fragmento abaixo:

“A 12ª cúpula dos BRICS, no dia 17 de novembro de 2020, foi um teste para o grupo sob o comando da Rússia. Desde a criação do grupo em 2009, os cinco países aumentaram sua participação na economia mundial. Impulsionado pela China e pela Índia, em 2020 o PIB dos 5 países totalizou por volta de 25% do PIB mundial e a participação dos BRICS no comércio internacional girou em torno de 20%.”

Texto adaptado e disponível em: <<https://www1.folha.uol.com.br/mercado/2020/11/desafio-na-cupula-dos-brics-e-dar-resposta-para-questoes-urgentes-do-nosso-tempo.shtml>> Acesso em: 26 jan. 2021.

Em relação aos BRICS, afirma-se que se trata de um/a

- a) bloco econômico com regras fixas entre os membros.
- b) cúpula para cooperação técnica na área tecnológica.
- c) bloco com fundo próprio para financiar suas atividades.
- d) mecanismo de cooperação entre os países membros.

40. Em razão da pandemia do Coronavírus, analistas na área de economia têm realizado previsões acerca do desemprego no mundo em que, no pior dos cenários, só no Brasil, chegaremos aos 40 milhões de desempregados. Os desequilíbrios nas contas públicas bem como no sistema produtivo exigirão planejamento de recuperação.

Como modelo inspirador para esse planejamento, esses analistas apontam um plano elaborado pelos Estados Unidos para a recuperação da Europa após o fim da Segunda Guerra Mundial, cujo nome é

- a) New Deal.
- b) Plano Marshall.
- c) Bretton Woods.
- d) Doutrina Truman.

