


CIDADE DE BAGÉ
INSTRUÇÕES GERAIS

- 1 - Este caderno de prova é constituído por 40 (quarenta) questões objetivas.
- 2 - A prova terá duração máxima de 04 (quatro) horas.
- 3 - Para cada questão, são apresentadas 04 (quatro) alternativas (a – b – c – d).
APENAS UMA delas responde de maneira correta ao enunciado.
- 4 - Após conferir os dados, contidos no campo Identificação do Candidato no Cartão de Resposta, assine no espaço indicado.
- 5 - Marque, com caneta esferográfica azul ou preta de ponta grossa, conforme exemplo abaixo, no Cartão de Resposta – único documento válido para correção eletrônica.


- 6 - Em hipótese alguma, haverá substituição do Cartão de Resposta.
- 7 - Não deixe nenhuma questão sem resposta.
- 8 - O preenchimento do Cartão de Resposta deverá ser feito dentro do tempo previsto para esta prova, ou seja, 04 (quatro) horas.
- 9 - Serão anuladas as questões que tiverem mais de uma alternativa marcada, emendas e/ou rasuras.
- 10 - O candidato só poderá retirar-se da sala de prova após transcorrida 01 (uma) hora do seu início.

BOA PROVA!

CONHECIMENTOS ESPECÍFICOS

1. Leia o fragmento abaixo:

“O olhar do geógrafo ensina a desvendar o jogo das forças naturais, a acumulação do trabalho humano e os destinos sucessivos dos lugares – hoje, esplendor das paisagens -, e a subutilização de parte delas em uma época em que as pessoas, no entanto, ficaram indiferentes aos belos ambientes”.

CLAVAL, P. **Epistemologia da Geografia**. Florianópolis: Editora da UFSC, 2009, p. 20.

No excerto acima, é feita uma referência ao papel da Geografia na análise do espaço, para a qual são sugeridos dois níveis para o trabalho do geógrafo, os quais são analisar

- a) os processos físicos e suas repercussões.
- b) a região e o processo de territorialidade.
- c) o ambiente e os impactos antrópicos.
- d) o saber-fazer e a reflexão científica.

2. Ao refletir sobre o objeto da Geografia, o espaço geográfico, Milton Santos (2009) afirma que ele é um produto histórico. Assim, o pesquisador aponta que uma das falhas do processo teórico-metodológico é ter deixado em segundo plano um determinado elemento.

Quando ausente na análise do espaço geográfico, Milton Santos aponta como uma falha no

- a) espaço subjetivo.
- b) espaço econômico.
- c) espaço social.
- d) espaço ambiental.

3. A concepção de natureza natural (Santos, 2009) dá lugar a outra, na qual consideramos as atividades humanas como um processo histórico de modificação do espaço por meio do trabalho. Essa afirmação leva-nos ao entendimento de que, por isso, a natureza é uma realidade social e não exclusivamente natural.

Considerando essa ideia, afirma-se que o espaço é um fato

- a) subjetivo.
- b) global.
- c) social.
- d) econômico.

4. Haesbaert, em seu livro **O Mito da Desterritorialização** (2007), ao avaliar o capitalismo pós-moderno ou de acumulação flexível, mostra que as relações sociais são construídas a partir do que ele denominou territórios-rede.

Os territórios-rede também podem ser chamados de locais

- a) de natureza homogênea e singular.
- b) fixos e contínuos.
- c) de uso individual e nacional.
- d) sobrepostos e descontínuos.

- 5.** Para compreender o espaço rural brasileiro, é preciso considerar os processos contraditórios presentes ao longo do seu desenvolvimento. As relações capitalistas, especialmente, contribuíram para a presença de cenários específicos no campo.

Considerando essa ideia, qual cenário específico aparece no campo, a partir das relações capitalistas?

- a) Os trabalhadores altamente especializados.
- b) As mulheres dominando a gerência do campo.
- c) A menor saída de jovens do campo.
- d) O trabalho assalariado e o familiar.

- 6.** Segundo a Confederação Nacional da Agricultura, o Brasil é o terceiro maior exportador agropecuário no mundo (2023). O volume de alguns produtos agrícolas para exportações, por exemplo, cresceu cerca de 29% em relação a 2022.

Disponível em: <<https://cnabrasil.org.br/cna/panorama-do-agro>>. Acesso em setembro de 2024.

Dentre os produtos do Brasil mais consumidos pelos países importadores estão:

- a) café, soja e suco de laranja.
- b) carne bovina, carne de frango e hortaliças.
- c) café, farinha de trigo e soja.
- d) carne bovina, algodão e amendoim.

- 7.** Os movimentos sociais no campo brasileiro, foram responsáveis por transformações no que se refere à luta pela terra e por melhorias nas condições de trabalho no setor primário. Como aponta Oliveira (2019), esses movimentos tiveram início há muito tempo, ainda quando o Brasil possuía um regime de escravidão. No entanto, o autor indica que um movimento iniciado entre os anos de 1950 e 1960 foi significativo para a área rural.

Qual movimento social originado no campo, entre os anos de 1950 e 1960, foi importante para a área rural?

- a) A Luta de Canudos.
- b) O Movimento das Ligas Camponesas.
- c) O Conflito do Contestado.
- d) O Movimento dos Sem Terra.

- 8.** A estrutura fundiária brasileira é marcada pela concentração de terras. Alguns eventos históricos contribuíram para a desigualdade e para a origem dos latifúndios.

Frutos da herança colonial, podemos apontar como eventos iniciais para a concentração de terras a/as

- a) Lei de Terras e a Constituição de 1988.
- b) Capitânicas hereditárias e sesmarias.
- c) Constituição brasileira de 1967 e a grilagem.
- d) Capitânicas hereditárias e a Lei de Terras.

9. Leia o texto abaixo:

“No Brasil, temos biomas com características muito específicas. Um deles desenvolve-se sobre um solo antigo, com perdas consideráveis de nutrientes, no qual as raízes das árvores têm dificuldade de apresentar profundidade. A ocorrência de incêndios, naturais ou originários das atividades humanas, tem um papel relevante para o ambiente. As árvores possuem aspecto duro, retorcidas e de folhas ásperas”.

Ross, Jurandyr Luciano Sanches. **Geografia do Brasil**. 5 Ed. Edusp. 2001, p. 151.

A qual bioma brasileiro o excerto se refere?

- a) Pampa.
- b) Mata Atlântica.
- c) Caatinga.
- d) Cerrado.

10. Em maio de 2024, o Rio Grande do Sul foi assolado por um evento meteorológico de grande intensidade, provocando chuvas intensas e, conseqüentemente, inundações, inclusive na Capital, Porto Alegre. Conforme avaliação dos meteorologistas da MetSul:

“Os intensos temporais são resultado da presença de uma massa de ar frio proveniente do sul (Argentina), que se estabeleceu sobre o Estado devido à influência de uma massa de ar seco e quente que se instalou no Centro do Brasil, essa mesma responsável pelas ondas de calor nos Estados do Centro-Oeste e Sudeste do país. Esse bloqueio tem impedido o avanço da massa de ar frio, resultando em uma região abaixo dela sujeita a intensa instabilidade e precipitação contínua, conforme explicam os meteorologistas da MetSul” (ESTADÃO, 2024).

Disponível em: <<https://www.estadao.com.br/sustentabilidade/chuvas-no-rs-a-aior-tragedia-climatica-do-estado-em-5-pontos-nprm/>>. Acesso em: 18 set. 2024

Considerando as características atmosféricas do Brasil, afirma-se que, dentre os climas predominantes, aquele que atua na região do fenômeno, isto é, no sul do país é

- a) equatorial úmido.
- b) semiárido.
- c) tropical.
- d) subtropical.

11.Sobre os incêndios do Brasil em 2024, "A Confederação Nacional dos Municípios (CNM) estima que 11,2 milhões de pessoas já foram diretamente afetadas por incêndios florestais nas cidades brasileiras desde o início deste ano. Os números constam de levantamento feito pela entidade, que calcula os prejuízos econômicos com as queimadas em R\$ 1,1 bilhão".

Disponível em: <<https://agenciabrasil.ebc.com.br/geral/noticia/2024-09/incendios-podem-ter-afetado-mais-de-11-milhoes-de-pessoas-no-brasil>>. Acesso em: 18 ago.2024.

Especialistas têm indicado que o manejo inadequado e o aquecimento global colaboram para o aumento dos índices de incêndio. Áreas antes usadas por povos indígenas, caboclos e ribeirinhos, como é o caso da Amazônia, têm sido utilizadas para atividades altamente predatórias.

Dentre as atividades econômicas que se destacam no norte do país estão:

- a) pesca industrial, turismo e produção industrial.
- b) agropecuária, exploração mineral e hidrelétricas.
- c) mineração, construção civil e pesca artesanal.
- d) prestação de serviços, petroquímica e indústria.

12.Em relação aos impactos ambientais nos biomas brasileiros, afirma-se que alguns deles trazem prejuízos incalculáveis, como a perda da biodiversidade, a destruição do solo e a proliferação de doenças e pragas. Um dos biomas brasileiros, a Mata Atlântica, tem sido fortemente afetado por ações como turismo, urbanização e produção de cana-de-açúcar.

Os ecossistemas que vêm sendo destruídos e que são relacionados a esse bioma são os/as

- a) campos temperados.
- b) cerrados sensu lato.
- c) manguezais.
- d) plantas xerófilas.

13.Para designar o movimento de expor a população mais carente a riscos ambientais, Acselrad (2009) usa o termo Justiça Ambiental como aquele que indica a superação do cenário devastador e ele acena para uma nova perspectiva de lutas ambientais e sociais. O autor refuta a ideia de que toda a sociedade está sob a crise ecológica.

ACSELRAD, H. et al. **O que é justiça ambiental**. Rio de Janeiro: Garamond, 2009.

Nesse cenário, o autor aponta que, dentre as causas para haver diferenças em relação a como as pessoas estão submetidas à crise, está (ão)

- a) as decisões do mercado, buscando eficiência do capitalismo.
- b) o programa de estatização das empresas dos países do Sul.
- c) o programa de estabilidade das microempresas dos países do Sul.
- d) a conciliação entre as classes sociais dividindo a produção.

14. Considerando o conceito de justiça ambiental proposto por Acselrad (2009), podemos dizer que o conceito de meio ambiente é constituído por algumas dimensões .

ACSELRAD, H. et al. **O que é justiça ambiental**. Rio de Janeiro: Garamond, 2009.

Quais dimensões a seguir compõem o conceito de meio ambiente na concepção de Acselrad?

- a) Ecológica, social, política e econômica.
- b) Estética, cultural, individual e psicológica.
- c) Empregatícia, ecológica, individual e comercial.
- d) Industrial, natural, informacional e técnica.

15. Leia o texto a seguir:

“Os efeitos dos impactos causados pelas atividades humanas não são vivenciados da mesma maneira por todos os estratos étnicos e sociais. No Brasil, são os bairros pobres das periferias urbanas (majoritariamente de pessoas pretas) e nos territórios indígenas, quilombolas e das outras comunidades tradicionais que são obrigados a conviver com a poluição do ambiente onde vivem e trabalham, escassez de água e energia, entre outras coisas”.

Disponível em: <<https://haiafrica.com.br/blogs/noticias/voce-sabe-o-que-e-racismo-ambiental?>>

Acesso em: 18 set. 2024.

O texto faz referência ao conceito de Racismo Ambiental, que significa

- a) poder de acesso de pessoas pretas aos direitos básicos.
- b) movimento social que busca equidade racial.
- c) destinação de áreas vulneráveis às pessoas pobres.
- d) preconceito com quem vive na periferia.

16. Dentre as causas da desigualdade ambiental, estão mecanismos que contribuem para a transferência dos problemas ambientais dos setores mais abastados da sociedade para os sem privilégio. Desses elementos, um deles está relacionado à “expropriação de sentidos”, especialmente entre a população pobre e trabalhadora.

A qual dos mecanismos a seguir o texto se refere?

- a) Mercado econômico.
- b) Políticas governamentais.
- c) Desinformação da população.
- d) Neutralização da crítica.

17. Considerando o tema Geografia da População na perspectiva crítica, abordada por Ross (2019), sabe-se que apenas os números são insuficientes para uma análise demográfica mais precisa. Com essa afirmação, o autor destaca que, embora não se possam negar os elementos quantitativos, a importância de _____ para entender melhor a sociedade é ressaltada.

ROSS, Jurandy Luciano Sanches. **Geografia do Brasil**. 5 Ed. São Paulo: Edusp. 2019).

Qual ação completa a lacuna?

- a) focar nos estudos das realidades sociais
- b) aliar fatores quantitativos à realidade empírica
- c) englobar os movimentos populacionais
- d) aliar os estudos econômicos ao fator quantitativo

18. Vários agentes e fatores contribuem para a produção do espaço. Nos últimos anos, no Brasil, sobretudo no litoral, temos visto inúmeras construções que tem modificado o cenário local. Em Balneário Camboriú, litoral norte de Santa Catarina, estão localizados 07 dos 10 arranha-céus residenciais mais altos do país, conforme o ranking internacional The Skyscraper City.

Disponível em: <<https://g1.globo.com/sc/santa-catarina/noticia/2023/07/27/balneario-camboriu-tem-7-dos-10-arranha-ceus-mais-altos-do-brasil-lista.ghtml>> Acesso em 30 set. 2024).

Nesse contexto, pode-se indicar como principais agentes modificadores do espaço:

- a) o Estado e a Organização Civil.
- b) as empresas e o capital financeiro.
- c) a população e o Estado.
- d) a organização civil e o capital financeiro.

19. Conforme o portal da indústria, em 2022, o setor industrial empregou mais de 11 milhões de trabalhadores formais, o que corresponde a 21,2 % de toda economia brasileira.

Disponível em: <<https://www.portaldaindustria.com.br/estatisticas/importancia-da-industria/>>. Acesso em: 30 set. 2024.

A indústria brasileira apresenta desafios importantes. Dentre eles, podemos destacar o/a

- a) foco exclusivo no setor automobilístico.
- b) dependência de insumos e de tecnologia estrangeira.
- c) predominância do capital e tecnologia nacionais.
- d) centralização espacial da indústria no Sudeste.

20. Observe a imagem abaixo e, em seguida, analise a questão:

Figura 1



Disponível em: <<https://outraspalavras.net/movimentoserebeldias/mafalda-quino-e-o-sensivel-poderde-questionar/>> Acesso em: 20/09/2024.

Para Scarlato (2019), a análise da industrialização deve compreender, também, a cultura humana. Para ele, o Brasil, há muito tempo, através da mídia, coloniza culturalmente, pois estimula o consumo, molda os estilos de vida, reforça a dependência econômica, entre outros elementos.

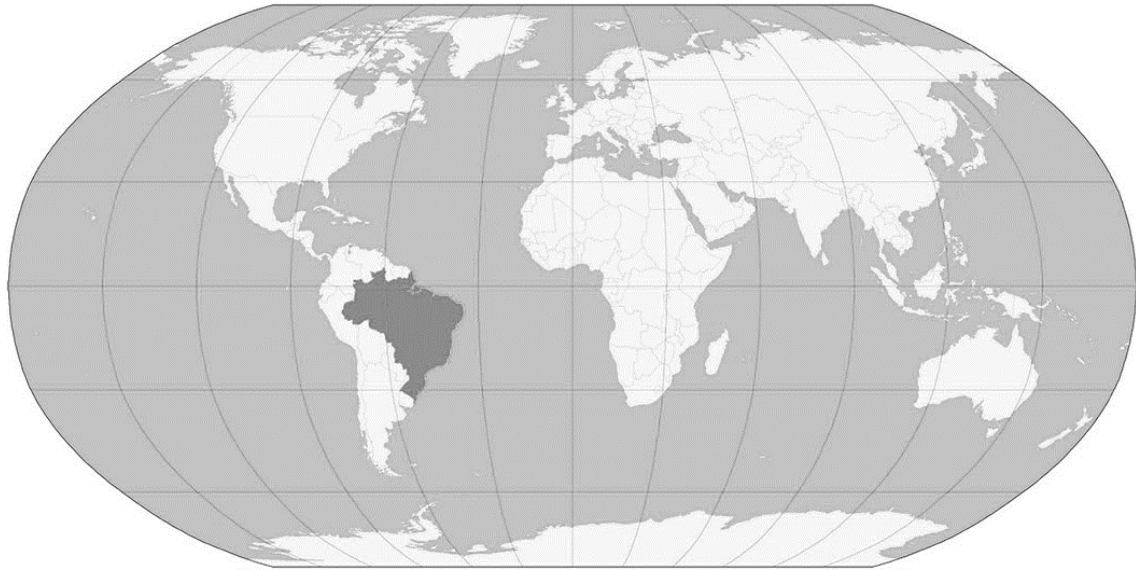
SCARLATO, F. C. O **Espaço industrial brasileiro**. In: ROSS, J. Geografia do Brasil. 5 Ed. São Paulo: Edusp. 2019.

Nesse contexto, para a Geografia, é importante estudar as transformações ocorridas com a industrialização e, portanto, os fatores envolvidos na análise do processo de distribuição de indústrias pelo mundo, dentre os quais, cita-se

- a) as tendências de consumo dos europeus e asiáticos.
- b) a análise econômica da conjuntura do país.
- c) a análise dos bens naturais disponíveis.
- d) os estudos do comportamento do consumo.

21. Analise o mapa a seguir em relação a projeção cartográfica:

Figura 2



Atlas Escolar IBGE. Disponível em: <<https://atlasescolar.ibge.gov.br/cartografia/21733-as-projecoes-cartograficas.html>>. Acesso em: 5 set. 2024.

O tipo de projeção cartográfica usada nesse mapa é

- a) afilática.
- b) conforme.
- c) equidistante.
- d) equivalente.

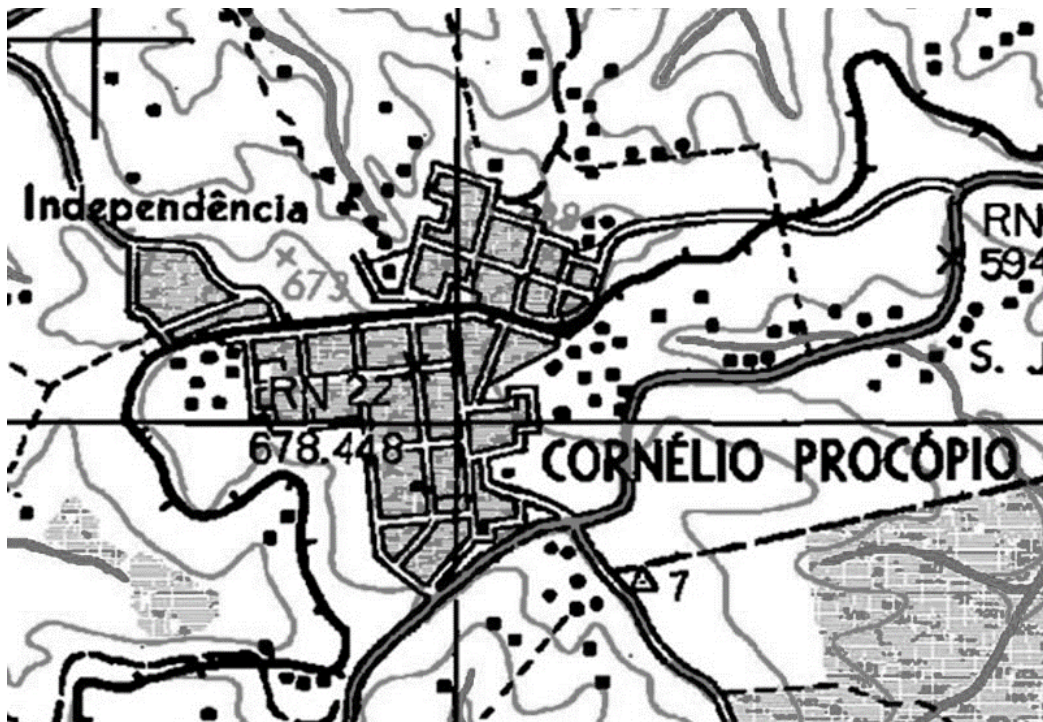
22. Um avião parte de São Paulo (Fuso 45° W) em direção a Paris (Fuso 15° E), às 18h do dia 6 de setembro, com uma escala em Madri, Espanha, que tem o mesmo fuso horário de Paris. A duração do voo até a capital da Espanha tem previsão de 10h, com um período de troca de aviões nessa cidade que demorará 6h, mais, por fim, o deslocamento para a capital francesa, com 2h de viagem.

Considerando, ainda, que a França está em horário de verão na referida data, quando o avião pousará em Paris?

- a) 7 h do dia 7 de setembro.
- b) 12 h do dia 7 de setembro.
- c) 16 h do dia 7 de setembro.
- d) 17 h do dia 7 de setembro.

23. Observe o mapa a seguir em relação a escalas cartográficas:

Figura 3



Atlas Escolar IBGE. Disponível em: <<https://atlascolar.ibge.gov.br/cartografia/21734-escala.html>>. Acesso em: 5 set. 2024.

A escala cartográfica que, adequadamente, expressa o valor representado para esse mapeamento é

- a) 1: 25.000
- b) 1: 50.000
- c) 1: 100.000
- d) 1: 250.000

24. Leia o texto abaixo:

Milhares de pessoas ainda fogem do Sudão diariamente, após um ano de guerra

“Um ano depois, a guerra no Sudão continua a causar estragos, com o país e seus vizinhos enfrentando uma das maiores e mais desafiadoras crises humanitárias e de deslocamento forçado do mundo. O número de sudaneses forçados a fugir agora ultrapassou 8,5 milhões de pessoas, com 1,8 milhão delas tendo cruzado as fronteiras em busca de proteção internacional.

O conflito em curso tem arruinado as vidas das pessoas, enchendo-as de medo e perdas. Ataques contra civis e violência sexual e de gênero relacionados ao conflito continuam sem cessar, violando o direito humanitário internacional e os direitos humanos. O Sudão experimentou a quase completa destruição de sua classe média urbana: arquitetos, médicos, professores, enfermeiros, engenheiros e estudantes perderam tudo”.

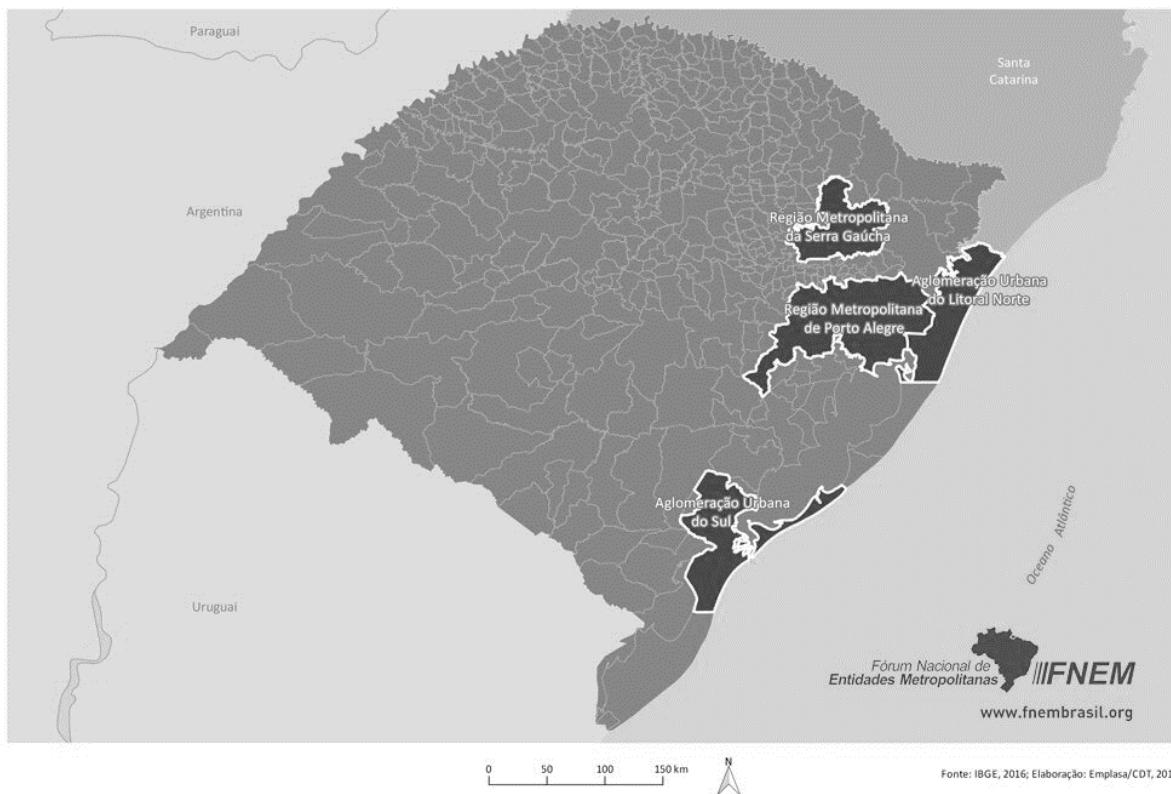
UNHCR-ACNUR. Agência da ONU para refugiados. Disponível em:
<<https://www.acnur.org/portugues/2024/04/12/milhares-de-pessoas-ainda-fogem-do-sudao-diariamente-apos-um-ano-de-guerra/>>. Acesso em: 6 set. 2024.

A causa para o estopim da guerra acima descrita é o(a)

- a) questão separatista na região sul do país.
- b) domínio territorial dos recursos minerais.
- c) disputa entre grupos militares rivais.
- d) controle das áreas banhadas pelo Rio Nilo.

25. Observe o mapa do Rio Grande do Sul em relação às aglomerações urbanas:

Figura 4: **Regiões Metropolitanas e Aglomerações Urbanas no RS**



. Disponível em: <<https://fnembrasil.org/rs/>>. Acesso em: 9 out. 2024.

Analise as seguintes afirmativas:

- I. A criação dessas organizações urbanas é pautada por lei federal, conforme legislação estabelecida pela Constituição de 1988, através de critérios previamente estabelecidos pelo Instituto Brasileiro de Geografia (IBGE), que se baseiam no tamanho populacional e na disponibilidade de uma rede de serviços diversos.
- II. O tipo de organização urbana encontrada no sul do estado caracteriza-se por possuir um nível de influência menor do que a região metropolitana, mas ainda com certa relevância socioeconômica, visto que possuem cidades que são consideradas polos regionais, com fornecimento de serviços diversos que as colocam como líderes em relação aos municípios vizinhos.
- III. As regiões metropolitanas situadas no nordeste são os maiores polos de desenvolvimento socioeconômico para o estado, sendo áreas de colonizações alemã e italiana, nas quais houve um desenvolvimento das atividades produtivas pautadas no crescimento da policultura e da indústria, levando-as a serem as principais áreas econômicas do estado.
- IV. A existência dessas regiões pode auxiliar na criação de políticas públicas em comum para os municípios abrangidos, no âmbito do planejamento urbano, inclusive para prevenção de catástrofes ambientais, como a vivenciada pelo Rio Grande do Sul, em maio de 2024.

Estão corretas apenas as afirmativas

- a) I, II e III.
- b) I, II e IV.
- c) I, III e IV.
- d) II, III e IV.

26. Leia o texto a seguir:

Djibouti na Rota da Seda

"Há tempo, o Djibouti, uma ex-colônia francesa, vem arrendando terras para vários países estrangeiros nas quais foram construídas bases militares. Estados Unidos, França, Japão, China e Itália possuem contingentes próprios no local. (...) Xi Jinping disse que a China está disposta a aumentar seu compromisso com o Djibouti para ajudar seu crescimento. "A China continuará a apoiar o desenvolvimento econômico e social de Djibouti, fará um intercâmbio de experiências sobre o desenvolvimento e incentivará empresas chinesas competitivas a investir e expandir negócios no Djibouti", afirmou o presidente chinês".

Instituto Humanitas Unisinos. Disponível em: <<https://www.ihu.unisinos.br/categorias/588914-djibouti-na-rota-da-seda>>. Acesso em: 6 set. 2024 (adaptado)

O motivo pelo qual Djibouti é alvo dessa iniciativa chinesa está no fato dele dispor de

- a) hegemonia política no Chifre da África.
- b) localização territorial no Mar Vermelho.
- c) mercado consumidor para bens industriais.
- d) recursos naturais para matérias-primas.

27. Leia o texto abaixo:

"Organismo intergovernamental para consulta e cooperação econômica (...) se caracteriza por ser um fórum de coordenação de políticas econômicas com o objetivo de harmonizar as posições entre os sócios. Fundada em 1989, pelo Tratado de Canberra, foi oficializada em 1993 e pretende estabelecer a livre troca de mercadorias entre todos os países do grupo até 2020. Trata-se de uma associação econômica aberta, o que descarta a ideia de uma união ou de uma comunidade. Cada Estado mantém-se livre para, segundo suas necessidades nacionais, liberalizar o comércio.

Países-membros: Austrália, Brunei, Canadá, Indonésia, Japão, Malásia, Nova Zelândia, Filipinas, Cingapura, Coreia do Sul, Tailândia e Estados Unidos (1989); China, Hong Kong, Taiwan (1991); México, Papua Nova Guiné (1993); Chile (1994); e Peru, Rússia e Vietnã, (1998)".

Representação Brasileira no Parlamento do Mercosul. Disponível em: <<https://www2.camara.leg.br/atividade-legislativa/comissoes/comissoes-mistas/cpcms>>. Acesso em: 6 set. 2024 (adaptado).

O bloco econômico a que se refere o texto é o (a)

- a) APEC.
- b) CEI.
- c) NAFTA.
- d) SADC.

28. Leia o texto a seguir:

“No período da globalização, a velocidade com que os pedaços do território são valorizados e desvalorizados, determinando mudanças de usos, é temerária. E as novas políticas das montadoras, no Brasil, parecem ser um exemplo paradigmático. Para produzir modernamente, essas indústrias convocam outros atores a participar de suas ações hegemônicas, levados, desse modo, a agir segundo uma lógica subordinada à da firma global. (...) E o território passa a ser organizado e usado com a lógica exclusiva dessa produção, pois em muitos casos não há ainda a implantação das indústrias”.

SANTOS, M.; SILVEIRA, M. L. **O Brasil:** Território e sociedade no início do século XXI. 9ª. ed. Rio de Janeiro: Record, 2006. p. 112-113.

Seguindo o raciocínio do autor, vemos que são múltiplos os exemplos do papel do Estado na territorialização das empresas mencionadas acima, **EXCETO** a/o

- a) concessão de benefícios e isenções fiscais.
- b) flexibilização nas leis ambientais e laborais.
- c) estímulo aos circuitos produtivos locais.
- d) investimento em infraestrutura logística.

29. Observe a imagem a seguir:

Figura 5



Canal do Professor HOC no Youtube. Disponível em: <<https://www.youtube.com/watch?v=3qEuKtqBv6Q>>. Acesso em: 8 set. 2024.

A imagem evidencia uma forma de poder de grandes potências, conhecida como

- a) *hard power*.
- b) *high power*.
- c) *smart power*.
- d) *soft power*.

30. Observe o mapa abaixo:

Figura 6: **Suécia entra oficialmente na Otan, aliança militar liderada pelos EUA**



Jornal O Globo. Disponível em: <<https://oglobo.globo.com/mundo/noticia/2024/03/07/suecia-passa-a-integrar-a-otan.ghtml>>. Acesso em: 8 set. 2024.

A adesão do referido país à OTAN está relacionada com o/a

- a) expansão do bloco econômico europeu.
- b) guerra entre antigas repúblicas soviéticas.
- c) controle de fluxos migratórios da África.
- d) ingresso como membro do Conselho de Segurança.

31. Leia o texto abaixo:

Entenda o que é o G20 e como funciona sua organização

É comum que as nações ao redor do mundo se organizem em grupos, em geral para realizar discussões e debates em torno de temas de interesse comum. No caso do G20, existem 19 países permanentes e um bloco econômico fixo, que representa todos os países membros que não integram a organização. Além disso, alguns países podem ser convidados para participar das cúpulas anuais, e das discussões que ocorrem nelas. (...) As reuniões dos chefes de Estado dos países membros ocorrem anualmente, e são chamadas de cúpulas. As cúpulas são organizadas pelo país que assume a presidência rotativa do G20, em geral um cargo simbólico. "O G20 é considerado um fórum mais informal, porque não apresenta as mesmas características de estrutura como outras organizações internacionais", afirma Apolinario (Laerte Apolinário, professor de Relações Internacionais da PUC-SP).

CNN Brasil. Disponível em: <<https://www.cnnbrasil.com.br/economia/macroeconomia/entenda-o-que-e-o-g20-e-como-funciona-sua-organizacao/#:~:text=%E2%80%9C%5BO%20G20%20comercial%5D%20%C3%A9,interesses%20divergentes%20sobre%20o%20tema>>.

Acesso em: 9 set 2024.

Analise as seguintes afirmativas, assinalando V, para as sentenças verdadeiras, e F, para as sentenças falsas.

- () A referida organização reúne os países mais ricos e desenvolvidos do mundo (o antigo G-7) e países emergentes, que tiveram um significativo crescimento econômico e participação política em assuntos globais. Brasil, China e Índia são exemplos desses países emergentes.
- () O bloco econômico que participa da dita organização é a União Europeia, que se caracteriza por ter uma grande integração político-econômica entre seus membros, desde a liberalização do comércio em seu interior, até a adoção de uma moeda única e de instituições que regulam o bloco.
- () Também existe uma organização de mesmo nome, mas formada no âmbito da Organização Mundial do Comércio (OMC), sendo os mesmos membros do grupo relatado no texto, cujos interesses relacionam-se com a maior abertura comercial entre os países.

A sequência correta, de cima para baixo, é

- a) V – F – V.
- b) F – V – F.
- c) F – F – V.
- d) V – V – F.

32. Leia o texto abaixo:

“...é uma organização muçulmana xiita com grande influência política e maior poderio armado dentro do Líbano. O grupo foi estabelecido no começo dos anos 1980 pela potência regional xiita mais forte da região, o Irã, com o objetivo de fazer oposição a Israel. Na época, as forças israelenses haviam ocupado o sul do Líbano durante a guerra civil do país”.

BBC News Brasil. Disponível em: <<https://www.bbc.com/portuguese/articles/c0dm7mw27m3o>>. Acesso em: 9 set. 2024.

O nome da organização descrita no texto é

- a) *Al-Qaeda*.
- b) *Fatah*.
- c) *Hezbollah*.
- d) *ISIS*.

33. Leia o texto abaixo:

Arábia Saudita ‘aberta ao petroyuan’ e laços mais estreitos com a China, diz ministro saudita

O ministro da Indústria e Recursos Minerais da Arábia Saudita disse que seu país está “aberto a novas ideias” — incluindo o uso do yuan em acordos de petróleo bruto — enquanto Riad busca incorporar produtos chineses como veículos elétricos, o avião de passageiros C919 e infraestrutura de energia renovável. (...) “O ‘petroyuan’ não é substancial para [o ministério], acreditamos que a Arábia Saudita fará o que for do seu melhor interesse [...] mas acho que a Arábia Saudita sempre tentará coisas novas e está aberta a novas ideias, e tentamos não misturar política com comércio”, disse Al-khorayef em uma entrevista no sábado (7) em Hong Kong e divulgada pelo South China Morning Post nesta segunda-feira (9).

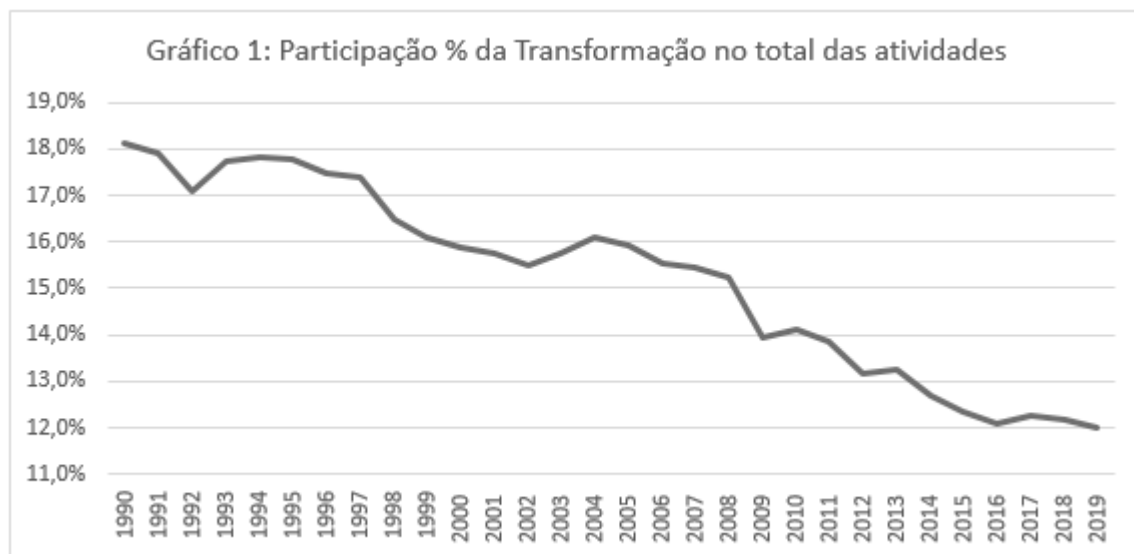
Agência Brasil-China. Disponível em: <<https://china.org.br/arabia-saudita-aberta-ao-petroyuan-e-lacos-mais-estreitos-com-a-china-diz-ministro-saudita/>>. Acesso em: 12 set. 2024.

O movimento descrito acima pode ser inserido no(a)

- a) fortalecimento econômico das nações ricas e desenvolvidas.
- b) estreitamento diplomático das nações do Oriente Médio.
- c) consolidação da hegemonia global dos países membros da OPEP.
- d) afirmação do poder multipolar dos países emergentes.

34. A respeito da indústria de transformação brasileira, observe o gráfico abaixo:

Figura 7



Blog do IBRE-FGV. <<https://blogdoibre.fgv.br/posts/o-declinio-da-industria-brasileira-de-1990-2019-produtividade-por-genero-da-industria-e-por>>. Acesso em: 13 set. 2024.

Dentre os processos que estão relacionados com o gráfico, podemos citar a expansão da/das

- a) *commodities* no valor das exportações.
- b) produtividade no setor de serviços.
- c) diversificação das cadeias produtivas.
- d) atividades agropecuárias no PIB.

35. Sobre o Sistema Global de Navegação por Satélite (GNSS), analise as afirmativas a seguir e marque V, para as sentenças verdadeiras, e F, para as falsas.

- () Consiste em um conjunto de satélites em órbita no planeta, que possibilita a localização dos objetos na superfície terrestre, bem como de outras aplicações relacionadas à cartografia e ao sensoriamento remoto, por exemplo.
- () É conhecido como Sistema de Posicionamento Global (GPS), sendo também considerado como sinônimo do GNSS.
- () Em relação ao seu funcionamento, é necessária a presença de um receptor, que coleta informações por meio dos sinais que devem ser emitidos por todos os satélites componentes do GNSS, além de um segmento terrestre, responsável por gerenciar a operação dos satélites.
- () É um instrumento geopolítico, pois sua utilização permite o conhecimento de áreas da superfície terrestre consideradas estratégicas, bem como facilita o deslocamento de recursos e ações militares. A Guerra do Golfo (1990-1991) é um exemplo desse fato.

A sequência correta, de cima para baixo, é

- a) F – F – V – F.
- b) V – V – F – F.
- c) V – F – F – V.
- d) F – V – F – F.

36. Leia o texto a seguir:

“A simultaneidade entre os lugares não é mais apenas a do tempo físico, tempo do relógio, mas do tempo social, dos momentos da vida social. Mas o tempo que está em todos os lugares é o tempo da metrópole, que transmite a todo o território o tempo do Estado e o tempo das multinacionais e das grandes empresas. Em cada outro ponto, nodal ou não, da rede urbana ou do espaço, temos tempos subalternos e diferenciados, marcados por dominâncias específicas. Com isso, nova hierarquia se impõe entre lugares, hierarquia com nova qualidade, com base em diferenciação muitas vezes maior do que ontem, entre os diversos pontos do território”.


SANTOS, M. **A Urbanização Brasileira**. São Paulo: Hucitec, 1993. p. 91.

A tendência observada no território pode ser evidenciada na

- a) dispersão das atividades econômicas.
- b) estabilização da divisão do trabalho.
- c) padronização do uso das técnicas.
- d) redução das disparidades regionais.

37. Observe o cartum a seguir:

Figura 8



Netscan Digital. Extraído de: < <https://blog.netscandigital.com/wp-content/uploads/2016/05/tipos-de-midia.jpg> >. Acesso em: 11 out. 2024.

O conceito que melhor esclarece as mudanças tecnológicas observadas na figura é o de

- a) destruição criativa.
- b) especialização produtiva.
- c) obsolescência programada.
- d) segregação digital.

38. Leia o texto abaixo:

EUA aprovam possível venda militar para Taiwan por cerca de US\$ 228 milhões

O Departamento de Estado dos EUA disse na segunda-feira (16) que aprovou uma possível venda militar estrangeira para Taiwan de peças de reposição avaliadas em cerca de US\$ 228 milhões, que os militares de Taiwan disseram que ajudarão a manter a prontidão de combate diante das intrusões da zona cinzenta da China. O retorno, reparo e reenvio de peças de reposição serão transferidos do estoque do governo dos EUA, disse o Departamento de Estado em um comunicado, acrescentando que os militares de Taiwan não terão dificuldade em absorver esse equipamento em suas forças armadas.

CNN. Disponível em: <<https://www.cnnbrasil.com.br/internacional/eua-aprovam-possivel-venda-militar-para-taiwan-por-cerca-de-us-228-milhoes/>>. Acesso em: 17 set. 2024.

Uma das razões para o movimento feito pelos EUA está alicerçada no fato da referida ilha ser um(a)

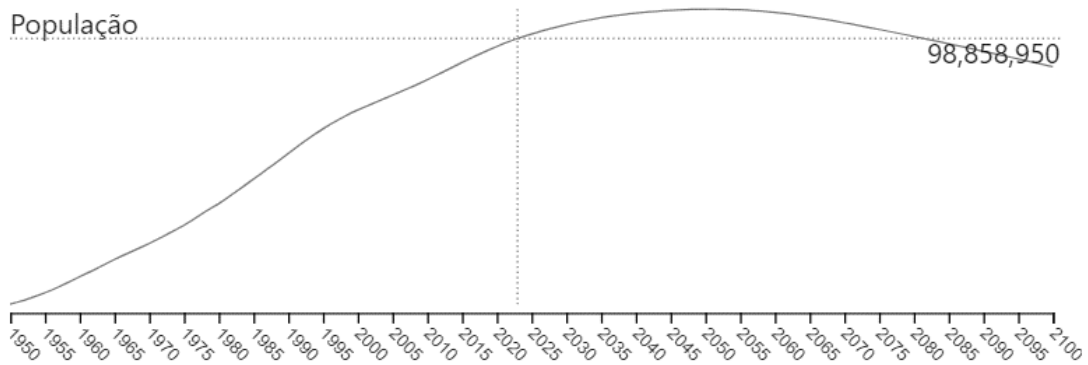
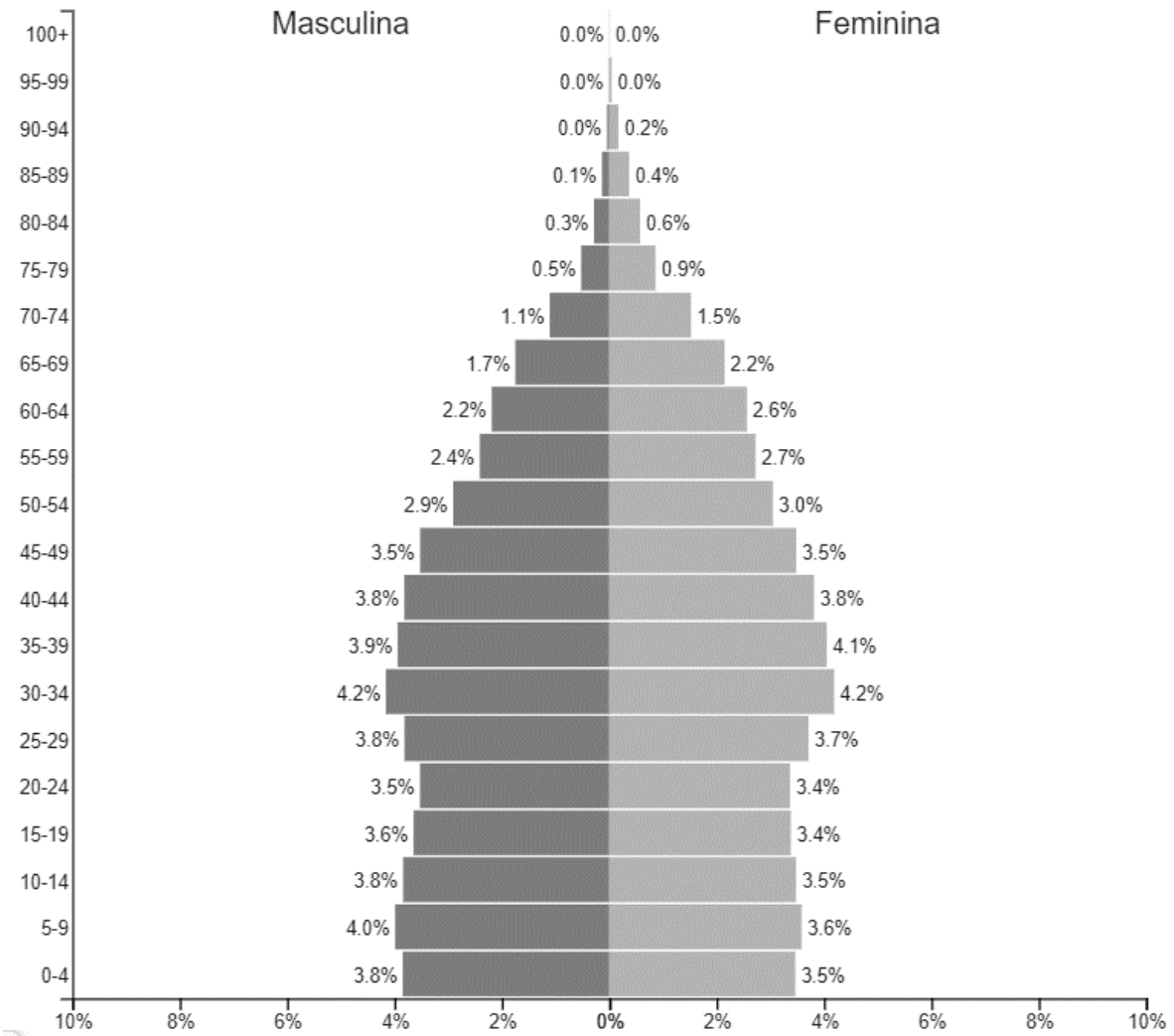
- a) fornecedora de *commodities* agrícolas e minerais.
- b) membro efetivo do Conselho de Segurança da ONU.
- c) polo global de produção de microchips e condutores.
- d) região administrativa especial de um país asiático.

39. Observe a imagem a seguir sobre o efetivo populacional:

Figura 9

Vietname ▼
2023

População: 98,858,950



Disponível em: <https://www.populationpyramid.net/pt/vietname/2023/#google_vignette>. Acesso em: 05 set. 2024.

Analise as afirmativas a seguir:

- I. Trata-se de um país de população jovem, o que é demonstrado no alargamento da base e no estreitamento do topo na pirâmide, no ano do levantamento.
- II. Tem um significativo crescimento populacional até, pelo menos, a década de 2020, mas que pode estagnar e diminuir nas próximas décadas, devido à redução dos índices de fecundidade.
- III. Possui um maior número de população feminina no corpo e no ápice da pirâmide, o que evidencia uma expectativa de vida maior do que a masculina.
- IV. Demonstra um número maior de crianças e jovens do sexo masculino, o que é explicado por questões sociais, culturais e religiosas presentes no referido país.

Estão corretas apenas as afirmativas

- a) I, II e III.
- b) I, II e IV.
- c) I, III e IV.
- d) II, III e IV.

40. Analise os dados da tabela sobre o nível de instrução da população de 25 anos ou mais de idade, segundo o sexo e a cor ou raça (%):

Sexo	Cor ou raça	Sem instrução e ensino fundamental incompleto	Ensino fundamental completo e ensino médio incompleto	Ensino médio completo e ensino superior incompleto	Ensino superior completo
Homem	Total	35,5	13,6	34,2	16,8
	Branco	28,0	12,4	34,7	24,9
	Preto ou pardo	41,4	14,6	33,7	10,3
Mulher	Total	32,7	12,1	33,9	21,3
	Branca	27,6	10,8	32,6	29,0
	Preta ou parda	37,1	13,3	35,0	14,7

Estatísticas de gênero: indicadores sociais das mulheres no Brasil / IBGE, Coordenação de População e Indicadores Sociais. IBGE Biblioteca, 2024.
Disponível em: <https://biblioteca.ibge.gov.br/visualizacao/livros/liv102066_informativo.pdf>.
Acesso em: 06 set. 2024.

A partir das informações apresentadas na tabela, afirma-se que

- I. o percentual da população preta ou parda com acesso à universidade é bastante reduzido, se comparado ao índice da população branca, tanto entre as mulheres, quanto entre os homens. Nesse último grupo, o percentual da população preta ou parda com ensino superior é inferior à metade do registrado na população masculina branca.
- II. o grau de escolaridade da população feminina é menor em relação à masculina, devido aos problemas estruturais enfrentados pelas mulheres na sociedade brasileira, como as barreiras que elas encontram para integrar-se ao mercado de trabalho, isso evidenciado pelo menor número de mulheres com curso superior do que o apresentado pelos homens.
- III. os indicadores educacionais, a despeito de melhoras ocorridas nos últimos anos, mostram uma grande defasagem na sociedade brasileira, evidenciada pela sua baixa taxa de escolaridade média, visto que mais de trinta por cento da população total possuem, no máximo, o ensino fundamental incompleto, tanto no total da população masculina, quanto no total da população feminina.

Estão corretas as afirmativas

- a) I e II, apenas.
- b) I e III, apenas.
- c) II e III, apenas.
- d) I, II e III.

FOLHA DE RASCUNHO

21	22	23	24	25	26	27	28	29	30	31	32	33	34	35	36	37	38	39	40
1	2	3	4	5	6	7	8	9	10	11	12	13	14	15	16	17	18	19	20